

DOKUMEN NEGARA

SANGAT RAHASIA

3



Sosiologi SMA/MA IPS

Nama :	SALIM
No Peserta :	123456

1. Perhatikan beberapa pernyataan berikut!
- (1) Relasi rohani dengan Tuhan
  - (2) Kedekatan hidup dengan alam
  - (3) Interaksi warga masyarakat
  - (4) Masalah-masalah kemiskinan
  - (5) Hubungan pimpinan dengan pegawai

Yang menjadi objek kajian ilmu sosiologi adalah ....

- A. (1), (2), dan (3)
  - B. (1), (2), dan (4)
  - C. (1), (3), dan (5)
  - D. (2), (4), dan (5)
  - E. (3), (4), dan (5)
2. Peneliti sosial memberikan data empirik tentang kebutuhan masyarakat kota mengenai transportasi yang aman, cepat dan murah. Data tersebut digunakan sebagai acuan membangun sarana transportasi kota. Fungsi kajian sosiologi pada contoh tersebut adalah dalam rangka ....
- A. melaksanakan penelitian sosial
  - B. menghilangkan kemacetan massal
  - C. merencanakan pembangunan transportasi
  - D. merekayasa pembangunan transportasi kota
  - E. memajukan ketersediaan transportasi umum
3. Perhatikan perilaku sosial berikut!
- (1) Andi menolak bila disuruh membaca doa di kelas karena merasa malu
  - (2) Ridwan tidak pergi sholat Jumat di masjid karena menonton film kartun
  - (3) Putri melaksanakan sholat lima waktu tanpa harus diingatkan orang tuanya
  - (4) Tiur mengikuti aktifitas orangtuanya kebaktian setiap hari Minggu di gereja
  - (5) Meskipun tidak ada yang mengawasi, Andi tetap berpuasa di bulan Ramadhan

Yang mencerminkan kepatuhan terhadap norma agama adalah ....

- A. (1), (2), dan (3)
- B. (1), (2), dan (4)
- C. (2), (3), dan (4)
- D. (2), (3), dan (5)
- E. (3), (4), dan (5)

DOKUMEN NEGARA

SANGAT RAHASIA

4

**Sosiologi SMA/MA IPS**

4. Di dalam masyarakat yang nilai dan normanya dipatuhi, menjadikan masing-masing warga menjalankan tugas sesuai dengan status sosialnya. Pemimpinnya bisa menegakkan peraturan dengan baik dan konsisten yang membuat hubungan antara rakyat dengan pemimpin harmonis. Unsur yang berpengaruh terhadap keteraturan sosial tersebut adalah ....
  - A. order
  - B. pola
  - C. keajegan
  - D. kebiasaan
  - E. dinamika sosial
  
5. Rino selalu mencium tangan ayah dan ibunya sebelum dan sesudah bepergian. Rino juga hormat kepada orang yang lebih tua. Contoh tersebut merupakan bagian dari tujuan sosialisasi yaitu ....
  - A. menerapkan nilai dan norma yang diharapkan masyarakat luas
  - B. menjaga kewibawaan keluarga sebagai pembentuk kepribadian
  - C. membentuk kepribadian anak sesuai dengan harapan orang tua
  - D. menciptakan generasi muda yang selalu menghormati orang tua
  - E. menjadikan anak patuh pada orang tua dan orang yang lebih tua
  
6. Rino berusia 3 tahun sedang bermain dengan teman-teman sebayanya. Ia berperan sebagai dokter gigi sementara teman yang lain menjadi pasiennya. Tahap pembentukan kepribadian bagi Rino termasuk pada ....
  - A. *generalized others*
  - B. *significant others*
  - C. *personality stage*
  - D. *game stage*
  - E. *play stage*
  
7. Sejak internet masuk ke sekolah, para siswa dianjurkan menggunakannya sebagai sumber belajar. Disamping itu para siswa juga menggunakannya untuk mengerjakan tugas sekolah dalam jejaring sosial. Setelah terbiasa berinternet, para siswa merasa menjadi bodoh dan ketinggalan zaman tanpa internet. Peran internet dalam pembentukan kepribadian siswa tersebut adalah ....
  - A. menjadikan sekolah semakin modern
  - B. memajukan sistem dunia pendidikan
  - C. membuka kepercayaan masyarakat
  - D. menambah wawasan pengetahuan
  - E. menambah wewenang peran sekolah
  
8. Komandan upacara memberi aba-aba kepada peserta upacara dan dipatuhi sehingga terjadi interaksi sosial yang baik. Ciri yang sangat menonjol dalam contoh interaksi tersebut adalah ....
  - A. pasukan upacara yang baik
  - B. tata tertib upacara bendera
  - C. waktu dilaksanakan upacara
  - D. komandan yang tegas
  - E. terjadinya komunikasi



DOKUMEN NEGARA

SANGAT RAHASIA

5



## Sosiologi SMA/MA IPS

9. Bencana banjir yang melanda di berbagai wilayah di Indonesia, membuat beberapa kelompok masyarakat dari latar belakang yang berbeda mau membantu meringankan beban korban di pengungsian. Tindakan ini merupakan pola interaksi asosiatif yang berbentuk ....
- kooperatif
  - asimilasi
  - akulturasi
  - mediasi
  - bargaining
10. Perhatikan pernyataan berikut!
- Remaja terlibat pergaulan bebas karena orangtua sangat sibuk bekerja
  - Ibu bercerai membuat anak kehilangan pegangan hidup dan terlantar
  - Komplotan perampok menjadi ahli setelah belajar cara baru di penjara
  - Mahasiswa menjadi pemakai narkoba karena sering ada di klub malam
  - Perilaku warga di bantaran kali yang suka membuang sampah ke sungai
- Yang merupakan penyimpangan karena adanya sub budaya penyimpang adalah ....
- (1), (2), dan (3)
  - (1), (2), dan (4)
  - (1), (3), dan (5)
  - (2), (4), dan (5)
  - (3), (4), dan (5)
11. Aktifitas kelompok remaja yang menjadi anggota suatu geng menimbulkan keresahan di lingkungan masyarakat karena sering melakukan tawuran, merusak fasilitas umum, dan mengganggu lalu lintas. Dari kuantitas pelaku, jenis tindakan tersebut merupakan penyimpangan ....
- individu
  - kolektif
  - kriminal
  - kelompok
  - kenakalan remaja
12. Keluarga korban pembunuhan berencana merasa lega dengan putusan pengadilan yang menghukum berat pelaku tindak kejahatan. Hal ini dirasa karena hukuman tersebut sudah setimpal dengan kejahatan pelaku terhadap korban. Tujuan diadakannya pengendalian sosial tersebut adalah ....
- membujuk keluarga memaafkan pelaku
  - meminta maaf kepada keluarga korban
  - mengembalikan situasi ketenteraman sosial
  - memaksa pelaku untuk ikut di persidangan
  - menganjurkan masyarakat tidak berlaku kriminal

DOKUMEN NEGARA

SANGAT RAHASIA



6

**Sosiologi SMA/MA IPS**

13. Setiap pelajaran fisika Yanto selalu datang terlambat. Walaupun sudah diperingatkan berkali-kali ia masih terlambat juga. Akhirnya guru memberikan sanksi kepada Yanto dengan belajar di perpustakaan. Tindakan guru tersebut termasuk jenis pengendalian sosial berbentuk ....
- hukuman
  - bimbingan
  - pembinaan
  - kekerasan
  - teguran
14. Ali memiliki hutang pada temannya, karena tidak membayar sampai batas waktunya, maka ia diadukan ke polisi sebagai penipu. Polisi kemudian menasehati keduanya dan akhirnya Ali berjanji untuk melunasi hutangnya. Bentuk penyelesaian konflik pada contoh tersebut termasuk....
- koersi
  - mediasi
  - kompromi
  - eliminasi
  - akomodasi
15. Kekacauan yang terjadi akibat adanya demonstrasi buruh mengakibatkan kondisi perekonomian terganggu. Lembaga yang bertugas untuk memelihara dan meningkatkan tertib hukum guna mewujudkan ketertiban, keamanan, dan ketentraman dengan adanya gangguan keamanan tersebut adalah ....
- kepolisian
  - pengadilan
  - keluarga
  - agama
  - adat
16. Perbedaan peranan dan pekerjaan berkaitan dengan spesialisasi keahlian digunakan masyarakat sebagai dasar pengelompokan yang bersifat horizontal. Latar belakang terjadinya pengelompokan tersebut adalah ....
- dalam masyarakat terdapat pelapisan status yang berbeda
  - masyarakat menghargai sesuatu yang memiliki nilai lebih
  - terdapat hierarki secara berjenjang yang bersifat horisontal
  - memiliki fungsi/kepentingan masing-masing di masyarakat
  - memiliki persamaan secara luas dalam latar belakang sosial



DOKUMEN NEGARA

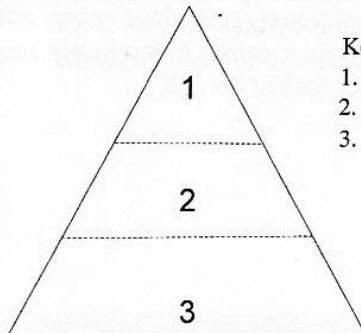
SANGAT RAHASIA

7



Sosiologi SMA/MA IPS

17. Perhatikan struktur sosial masyarakat agraris berikut!



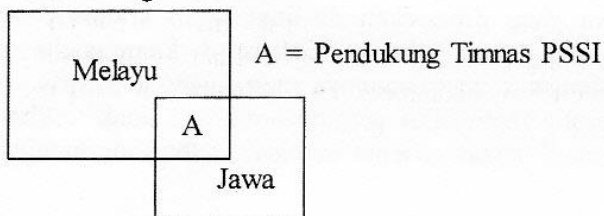
Keterangan:

1. Tuan tanah
2. Petani
3. Kuli/buruh tani

Buruh tani menempati posisi pada strata paling rendah karena ....

- A. jumlah tuan tanah lebih sedikit dibanding petani pemilik lahan
- B. tenaga kuli dihargai lebih rendah dari kepemilikan tanah dan modal
- C. kemampuan ekonomi buruh tani lebih rendah dibanding tuan tanah
- D. buruh tani kurang memiliki pengetahuan mengelola lahan pertanian
- E. tuan tanah mempunyai hubungan yang dekat dengan pemerintah daerah

18. Perhatikan gambar berikut!



Yang menjadi dasar terjadinya proses interseksi pada gambar adalah ....

- A. hobby
- B. profesi
- C. kesukuan
- D. pekerjaan
- E. kekuasaan

19. Ketika negara belum bisa mewujudkan kesejahteraan rakyatnya secara merata, maka kesenjangan ekonomi masih terjadi antara kelompok miskin dan kaya. Hal itu berpotensi menimbulkan konflik di masyarakat yang disebabkan oleh ....

- A. perbedaan kebudayaan
- B. perubahan kebudayaan
- C. adanya ketidakadilan
- D. adanya kesalahpahaman
- E. masuknya budaya asing

DOKUMEN NEGARA

SANGAT RAHASIA

8

**Sosiologi SMA/MA IPS**

20. Untuk menghindari terjadinya konflik terbuka, maka diadakan pertemuan antara tokoh masyarakat yang berbeda budaya dan etnis untuk membahas perbedaan yang ada dan mencapai kesepakatan bersama, dengan masing-masing pihak saling mengurangi tuntutan. Upaya akomodasi yang dilakukan para tokoh tersebut merupakan bentuk ....
- arbitrasi
  - ajudikasi
  - kompromi
  - konsiliasi
  - kontroversi
21. Tika ingin mencari pekerjaan di ibu kota sesuai dengan pendidikannya. Tetapi ia kesulitan karena tidak ada lowongan pekerjaan yang sesuai. Ia menerima kerja sebagai buruh kasar, meskipun didesa Tika adalah anak orang kaya dan terpendang. Bentuk mobilitas yang dialami Tika adalah ....
- vertikal naik
  - vertikal turun
  - horizontal geografi
  - antargenerasi naik
  - antargenerasi turun
22. Raden Bawono seorang mahasiswa yang dibesarkan di lingkungan kraton/feodal dan memegang teguh tradisi yang berlaku dalam keluarga. Selama di kampus dia merasa kesulitan dalam menyesuaikan diri dengan teman-temannya yang datang dari berbagai latar belakang sosial budaya. Dia cenderung membatasi pergaulannya dan tidak terlibat aktif dalam organisasi kampus. Dalam contoh kasus tersebut terdapat faktor yang menghambat terjadinya mobilitas sosial, yaitu ....
- pembatasan kesempatan
  - diskriminasi kelas sosial
  - perbedaan hak dan kewajiban
  - pengaruh sosialisasi yang kuat
  - latar belakang ekonomi keluarga
23. Kesuksesan Pak Beni dalam memimpin perusahaan jasa pariwisata, mengantarkan ia menjadi ketua forum silaturahmi pariwisata Indonesia. Sebagai ketua forum, relasi Pak Beni semakin luas, dan semakin dikenal di dunia pariwisata. Akhirnya Pak Beni diangkat oleh presiden menjadi Menteri Pariwisata. Saluran mobilitas sosial yang berfungsi pada contoh ini adalah ....
- lembaga kepresidenan
  - lembaga pendidikan
  - lembaga ekonomi
  - organisasi profesi
  - lembaga politik



DOKUMEN NEGARA

SANGAT RAHASIA

9

**Sosiologi SMA/MA IPS**

24. Pak Nugroho sebagai anggota TNI sangat tekun dalam menjalankan tugas. Ketekunan dan kesungguhan bertugas membawa ia lebih cepat naik pangkat daripada teman seangkatannya, bahkan mendahului seniorinya. Kebaikan sikap, kesederhanaan, dan keramahmatan Pak Nugroho menjadikan ia diterima dan disenangi walaupun beberapa teman seangkatannya sekarang menjadi bawahannya. Mobilitas sosial ini merupakan contoh mobilitas sosial yang ....
- A. berpotensi menimbulkan konflik antarindividu dan kelompok
  - B. berpotensi konflik peran antar anggota dan kelompoknya
  - C. berpotensi arogan karena jabatan baru merubah status
  - D. sesuai dengan kemampuan mengembangkan diri
  - E. menimbulkan konflik internal antar-generasi
25. Perhatikan pernyataan berikut!
- (1) Pengurus OSIS mengadakan acara penggalangan dana sosial
  - (2) Koperasi angkutan umum menambah armada untuk mengatasi macet
  - (3) Perkumpulan guru Indonesia melakukan evaluasi pembelajaran di China
  - (4) Invasi perkumpulan warung Tegal mendominasi sektor informal di kota besar
  - (5) Organisasi Betawi ikut melestarikan budaya sebagai bagian identitas Jakarta
- Dari pernyataan di atas yang dapat dinyatakan kelompok patembayan adalah ....
- A. (1), (2), dan (3)
  - B. (1), (2), dan (4)
  - C. (1), (3), dan (5)
  - D. (2), (4), dan (5)
  - E. (3), (4), dan (5)
26. Mekuatnya posisi kelompok pengusaha dari berbagai etnis terhadap kondisi ekonomi di Indonesia sudah berlangsung cukup lama. Bentuk konfigurasi dalam tatanan masyarakat tersebut adalah ....
- A. komposisi seimbang
  - B. mayoritas dominan
  - C. minoritas dominan
  - D. segmentasi seimbang
  - E. fragmentasi kelompok
27. Masyarakat sekitar daerah pesisir, cenderung memiliki struktur sosial yang terbuka, lebih dinamis dan heterogen. Sedangkan masyarakat yang jauh dari pesisir, cenderung lebih tertutup, statis, dan homogen. Kemajemukan atau perbedaan sosial tersebut, disebabkan oleh faktor ....
- A. kondisi geografis
  - B. asal keturunan
  - C. sumber penghidupan
  - D. tradisi masyarakat
  - E. penjajahan bangsa asing

DOKUMEN NEGARA

SANGAT RAHASIA

10

**Sosiologi SMA/MA IPS**

28. Penduduk di suatu perumahan terdiri dari orang-orang yang memiliki berbagai jenis pekerjaan, pendidikan dan agama. Mereka hidup rukun dan membentuk suatu komunitas sosial. Mereka memilih Ketua RT dari orang dengan pekerjaan mapan dan yang lebih lama tinggal di kompleks itu karena di anggap paling tahu wilayah. Hal ini menjelaskan hubungan antara ...
- A. pekerjaan dan kepercayaan
  - B. kepercayaan dan keturunan
  - C. kekuasaan dan asal daerah
  - D. status dan senioritas
  - E. senioritas dan keturunan
29. Keragaman suku seperti Aceh, Alas, Alor, Ambon, Ampana, Asmat, dan Abung merupakan gambaran Indonesia sebagai negara multikultural yang memiliki keragaman budaya. Faktor penyebab timbulnya keragaman tersebut adalah ....
- A. struktur sosial bangsa Indonesia
  - B. kondisi wilayah Indonesia
  - C. masa lalu bangsa Indonesia
  - D. letak astronomis Indonesia
  - E. jenis iklim di Indonesia
30. Perhatikan pernyataan berikut!
- (1) Mengutamakan pegawai putra daerah
  - (2) Hanya berkelompok dengan teman seiman
  - (3) Menyukai budaya dari kelompok lain
  - (4) Menerima pemimpin dari luar kelompok
  - (5) Mempunyai sikap yang akomodatif

Yang termasuk tindakan masyarakat majemuk dalam memperkuat integrasi sosial adalah ....

- A. (1), (2), dan (3)
- B. (1), (3), dan (4)
- C. (2), (3), dan (4)
- D. (2), (4), dan (5)
- E. (3), (4), dan (5)

31. Perhatikan pernyataan berikut!

- (1) Banjir melanda beberapa daerah bantaran sungai
- (2) Angka kematian bayi tinggi di daerah terpencil
- (3) Bertambahnya jumlah kelas menengah di perkotaan
- (4) Pertambahan jumlah penduduk semakin tinggi
- (5) Urbanisasi menyebabkan penduduk kota semakin padat

Yang merupakan perubahan sosial terkait dengan masalah demografi adalah ....

- A. (1), (2), dan (3)
- B. (1), (2), dan (4)
- C. (1), (3), dan (5)
- D. (2), (4), dan (5)
- E. (3), (4), dan (5)



DOKUMEN NEGARA

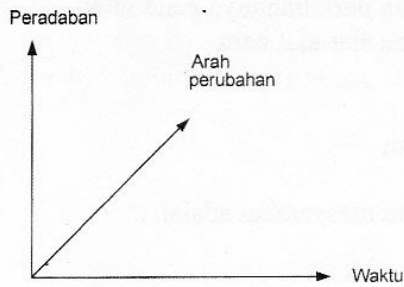
SANGAT RAHASIA

11



Sosiologi SMA/MA IPS

32. Perhatikan gambar berikut!



Perubahan sosial yang terjadi pada gambar menunjukkan berlangsungnya perubahan dalam masyarakat yang berpola ....

- A. revolusioner
  - B. progresif
  - C. multilinier
  - D. linier
  - E. siklus
33. Isu demokratisasi di bidang politik, yaitu terbukanya peluang bagi masyarakat untuk berpartisipasi dalam proses pembangunan di segala bidang kehidupan, baik dalam perencanaan, pelaksanaan, maupun pelaporan. Hal ini berdampak positif terhadap kemajuan masyarakat yaitu ....
- A. maraknya aksi protes dan demokrasi menanggapi kebijakan
  - B. proses pengambilan keputusan politik menjadi lebih lama
  - C. pelaksanaan suatu proyek pembangunan secara transparan
  - D. pelaku usaha dapat merekrut pekerja dan keluarganya
  - E. rekrutmen tenaga kerja melalui jaringan primordial
34. Perilaku materialis sebagian masyarakat yang mengukur sukses dengan kemampuan mengumpulkan uang dalam jumlah banyak, akan berdampak negatif bagi masyarakat seperti ....
- A. memacu bekerja mencari uang
  - B. menimbulkan perilaku koruptif
  - C. menumbuhkan jiwa wirausaha
  - D. menciptakan persaingan ketat
  - E. terbentuk lapisan di masyarakat
35. Globalisasi memudahkan generasi muda menikmati musik, film, dan produk budaya asing lainnya. Hal ini berpotensi runtuhnya budaya luhur bangsa yang dilupakan oleh generasi mudanya. Solusi dari gejala ini adalah ....
- A. revitalisasi budaya luhur bangsa sehingga digemari generasi muda
  - B. melarang masuknya budaya luar karena mempengaruhi budaya asli
  - C. membatasi peluang generasi muda mengakses informasi dari luar
  - D. membatasi aktivitas organisasi yang bermuatan budaya lokal
  - E. menyelenggarakan pertukaran pemuda antarbangsa

DOKUMEN NEGARA

SANGAT RAHASIA

12

**Sosiologi SMA/MA IPS**

36. Perhatikan pernyataan berikut!
- (1) Perubahan faktor demografi, yaitu bertambah dan berkurangnya penduduk
  - (2) Penemuan-penemuan baru, baik ide-ide baru atau alat-alat baru
  - (3) Pertentangan kelompok aliran agama tertentu
  - (4) Perang dan pengaruh kebudayaan masyarakat
  - (5) Perubahan lingkungan alam karena bencana alam
- Yang merupakan faktor internal penyebab perubahan masyarakat adalah ....
- A. (1), (2), dan (3)
  - B. (1), (3), dan (4)
  - C. (1), (3), dan (5)
  - D. (2), (4), dan (5)
  - E. (3), (4), dan (5)
37. Ketertinggalan bangsa Indonesia dibandingkan negara maju di dunia merupakan bagian dari tantangan yang harus dihadapi dalam era globalisasi saat ini. Pentingnya pembangunan secara menyeluruh dianggap mampu menandingi kebesaran bangsa lain. Perubahan tatanan ekonomi masyarakat seperti itu menunjukkan ....
- A. pentingnya kualitas sumber daya manusia
  - B. hilangnya batas kewenangan antarnegara
  - C. melemahnya ekonomi negara berkembang
  - D. menambah kekuatan ekonomi negara maju
  - E. menunda perkembangan nilai ekonomi lokal
38. Lembaga kepolisian diperlukan masyarakat dalam rangka memperoleh tatanan kehidupan yang harmoni di antara warga masyarakat. Bila terjadi penyimpangan hukum dari anggota masyarakat maka lembaga tersebut diharapkan dapat memulihkan pada tatanan yang benar. Pembentukan lembaga tersebut bertujuan untuk ....
- A. mengatur kekuasaan hukum negara
  - B. memberikan rasa aman dalam kehidupan
  - C. meningkatkan kesejahteraan masyarakat
  - D. melakukan teror terhadap pelaku kriminal
  - E. menangkap anggota masyarakat yang menyimpang
39. Operasi pasar dilakukan oleh pemerintah selama bulan ramadhan untuk menjamin harga kebutuhan pokok tidak naik. Aktivitas tersebut berkaitan dengan tujuan politik pemerintah yaitu ....
- A. agar kehidupan masyarakat aman dan damai
  - B. kewajiban mensejahterakan anggota masyarakat
  - C. menyatukan hubungan antara pemerintah dengan rakyatnya
  - D. menjamin barang kebutuhan pokok akan membanjiri pasar
  - E. memberi sanksi kepada para pedagang yang menaikkan harga
40. Program wajib belajar 9 tahun membuka peluang anak usia sekolah untuk menempuh pendidikan di tingkat SD dan SMP secara gratis. Dengan demikian diharapkan tidak ada lagi pekerja anak di bawah umur. Fungsi laten lembaga pendidikan tersebut adalah ....
- A. menanamkan ketrampilan praktis sesuai tuntutan dunia kerja
  - B. memperpanjang masa ketergantungan anak-anak pada orang tua
  - C. mempersiapkan anggota masyarakat bersaing mencari nafkah
  - D. melestarikan kebudayaan lokal dipublikasikan secara nasional
  - E. mengembangkan bakat kemandirian sebagai potensi perseorangan



DOKUMEN NEGARA

SANGAT RAHASIA

13

**Sosiologi SMA/MA IPS**

41. Kurikulum beberapa sekolah menengah kejuruan memasukkan unsur tari dan alat musik tradisional sebagai bagian proses pembelajaran. Hal ini menunjukkan salah satu fungsi utama lembaga pendidikan adalah ....
- melakukan upaya proses transfer kebudayaan
  - menambah kekayaan intelektual sesuai kebutuhan
  - menciptakan tenaga kerja profesional di bidangnya
  - memilih sekolah berbasis kejuruan dengan umum
  - memahami keahlian sesuai dengan kebutuhan pasar
42. Keluarga merupakan wahana sosialisasi primer sebagai pembentukan nilai dan norma yang efektif, dimana orang tua mentransformasikan peraturan yang ada di masyarakat terhadap anak-anaknya dengan tujuan ....
- mendapatkan status sosial dalam masyarakat kelak
  - meletakkan dasar kepribadian pada anggota keluarga
  - memberikan rasa nyaman dengan adanya keluarga inti
  - menyesuaikan diri dengan perkembangan di masyarakat
  - memberikan rasa adil dan tanggung jawab pada keluarga
43. Pemerintah melakukan upaya peningkatan pembangunan yang adil dan merata di seluruh bidang kehidupan. Di antara upaya itu adalah memberikan dana yang di peruntukkan bagi daerah yang masih tertinggal. Tujuan pemerintah untuk melakukan kegiatan tersebut adalah ....
- memetakan daerah yang belum tersentuh pembangunan
  - meningkatkan kesejahteraan rakyat di daerah tertinggal
  - menciptakan program pro rakyat bagi masyarakat kecil
  - menjembatani daerah maju dengan daerah tertinggal
  - menguatkan pemberdayaan sosial masyarakat industri
44. Peneliti ingin mengetahui kehidupan masyarakat miskin di suatu kota. Ia melakukan observasi dan wawancara dengan beberapa warga miskin yang menjadi subyek penelitian. Ditinjau dari tempat pengambilan data metode jenis tersebut merupakan penelitian ...
- terapan
  - lapangan
  - percobaan
  - laboratorium
  - pengembangan
45. Seorang peneliti sedang melakukan penelitian dengan obyek penelitian "Kehidupan para pemulung Tempat Pembuangan Akhir Sampah Bantar Gebang Bekasi, Jawa Barat." Rumusan permasalahan pada penelitian tersebut adalah ...
- Darimana para pemulung Bantar Gebang berasal ?
  - Bagaimanakah kehidupan para pemulung Bantar Gebang ?
  - Berapa besar jumlah antarpemulung Bantar Gebang ?
  - Bagaimanakah hubungan para pemulung Bantar Gebang ?
  - Barang apakah yang menjadi target para pemulung ?

DOKUMEN NEGARA

SANGAT RAHASIA

14

**Sosiologi SMA/MA IPS**

46. Seorang peneliti memberikan kesempatan yang sama kepada setiap subyek untuk di pilih menjadi sampel. penelitian, keadaan subjek di dalam populasi benar-benar homogen. Berdasarkan deskripsi tersebut, cara pengambilan sampel termasuk....

A. berstrata  
B. proporsi  
C. wilayah  
D. kelompok  
E. random

47. Contoh angket tertutup:

Setujukah anda, apabila anak yang diketahui memakai narkoba dikeluarkan dari sekolah ?

A. Ya  
B. Tidak

Kelebihan instrumen pada contoh di atas antara lain ....

A. responden tidak harus berpikir dalam mengisi angket  
B. tidak diperlukan banyak waktu untuk mengisi angket  
C. responden mampu menyatakan pikirannya secara rinci  
D. pengisian angket harus ditunggu agar hasilnya maksimal  
E. memberikan kebebasan responden mengemukakan isi hati

48. Data hasil ulangan sosiologi siswa kelas XII – IPS:

Skor Siswa	Frekuensi	Prosentase
8	10	25
7	20	50
6	4	10
5	2	5
4	3	7
3	1	3
Jumlah	40	100

Jika Kriteria Kelulusan Minimal (KKM) di sekolah tersebut 7, maka data tersebut bermakna sebagai berikut ....

A. KKM tersebut terlalu tinggi  
B. siswa yang sudah mencapai KKM memadai  
C. rata-rata kemampuan akademik siswa rendah  
D. KKM 7 terlalu tinggi untuk ukuran nasional  
E. KKM berguna untuk memotivasi belajar siswa



DOKUMEN NEGARA

SANGAT RAHASIA

15



Sosiologi SMA/MA IPS

49. Perhatikan garis besar laporan berikut!

- (1) Kata pengantar
- (2) Daftar pustaka
- (3) Latar belakang penelitian
- (4) Kesimpulan dan saran
- (5) Analisa hasil penelitian

Berdasarkan garis besar laporan tersebut yang termasuk bagian isi adalah ....

- A. (1), (2), dan (3)
- B. (1), (3), dan (4)
- C. (2), (3), dan (4)
- D. (2), (4), dan (5)
- E. (3), (4), dan (5)

50. Laporan hasil penelitian harus disajikan dalam bahasa yang sederhana dan mudah dipahami dengan menekankan isi penelitian yang menarik dan bermanfaat bagi khalayak. Berdasarkan keterangan tersebut, sasaran publikasi hasil penelitian adalah ....

- A. sponsor penelitian
- B. masyarakat umum
- C. masyarakat ilmiah
- D. sesama peneliti
- E. pemerintah