



Nama :	
No Peserta :	-111-

1. Beberapa ciri sosiologi :

- (1) Didasarkan atas fenomena sosial yang dapat dianalisa secara subyektif.
- (2) Dalam pengolahan data, imajinasi pribadi bisa masuk data-data yang dianalisa.
- (3) Realitas sosial dianalisa secara kritis tanpa memperhitungkan baik buruknya fakta.
- (4) Dikembangkan melalui pengamatan terhadap realitas dan tidak bersifat spekulatif.
- (5) Hasil pengamatan disusun secara logis dalam bentuk abstraksi.

Yang termasuk ciri-ciri ilmu sosiologi adalah ....

- A. (1), (2), dan (3)
- B. (1), (2), dan (4)
- C. (1), (3), dan (5)
- D. (2), (4), dan (5)
- E. (3), (4), dan (5)

2. Seorang sosiolog melakukan penelitian tentang kehidupan warga di suatu kompleks perumahan di mana mereka bisa hidup berdampingan dengan solidaritas sosial tinggi, saling menghargai dan menghormati. Dari contoh tersebut sosiologi berfungsi sebagai ilmu yang ....

- A. menanamkan kesadaran dan pemahaman
- B. mengkaji hubungan masyarakat
- C. mengembangkan sikap toleransi
- D. mengembangkan sikap saling menghormati
- E. mengkaji hubungan manusia dengan alam

3. Di perempatan atau pertigaan jalan biasanya dipasang lampu pengatur lalu lintas. Pemasangan lampu tersebut dimaksudkan agar lalu lintas berjalan dengan teratur. Jika norma tersebut dilanggar oleh warga pengguna jalan maka polisi dapat menyatakan tilang. Perilaku yang dipatuhi tersebut termasuk jenis norma ....

- A. *mores*
- B. *folkways*
- C. *custom*
- D. *laws*
- E. *usage*

4. Setiap pagi sebelum berangkat ke sekolah Mohandes selalu makan pagi, lalu mencium tangan kedua orang tuanya untuk berpamitan.

Tindakan Mohandes ditinjau dari unsur-unsur tercipta keteraturan sosial termasuk....

- A. tertib sosial
- B. nilai sosial
- C. keajegan
- D. order
- E. pola



## Sosiologi SMA/MA IPS

5. Dinda tumbuh menjadi gadis yang memiliki kepribadian sabar, sopan dan menyayangi sesama serta hormat kepada yang lebih tua sebagaimana yang dilatihkan kedua orang tuanya melalui keteladanan. Media atau agen sosialisasi yang berperan dalam membentuk kepribadian Dinda adalah ....
- keluarga
  - sekolah
  - media massa
  - lingkungan kerja
  - kelompok persahabatan
6. Seorang individu dilahirkan dan berkembang ke masa anak-anak, maka pada saat itu dia mulai beradaptasi dan mulai bersosialisasi dengan lingkungan terdekatnya. Pada tahap ini anak mulai mengenal keluarganya. Hal ini merupakan bentuk sosialisasi ....
- sekunder
  - primer
  - langsung
  - lingkungan
  - lanjutan
7. Sarah selalu berpenampilan seperti idolanya yaitu Syahrini, apabila bersolek memakai bulu mata anti badai, rambutnya dijambul bahkan gaya bicaranya pun seperti Syahrini. Tindakan yang dilakukan Sarah tersebut didasari oleh faktor ....
- imitasi
  - identifikasi
  - sugesti
  - empati
  - simpati
8. Menjelang Pilkada untuk pemilihan Walikota Semarang partai-partai politik melakukan kerjasama dengan tujuan memenangkan Pilkada. Ditinjau dari bentuk interaksi sosialnya, tujuan kerjasama dalam memenangkan Pilkada termasuk ....
- koalisi
  - joint venture*
  - kooptasi
  - bersaing
  - koersi
9. Perhatikan pernyataan berikut :
- Turis asing bertanya kepada penduduk setempat dengan bahasa yang tidak dimengerti.
  - Seseorang mengajak bicara temannya yang sedang tidur mengigau.
  - Tamu restoran memanggil pelayan di restoran.
  - Seorang turis memesan kamar pada resepsionis hotel.
  - Pelayan menanyakan kepada tamu apa yang ingin dipesannya.
- Yang merupakan interaksi sosial ditunjukkan oleh nomor ....
- (1), (2), dan (3)
  - (1), (2), dan (4)
  - (1), (3), dan (5)
  - (2), (4), dan (5)
  - (3), (4), dan (5)



10. Setelah perceraian kedua orangtuanya. Ani lebih sering diam menyendiri dan kini sedang menjalani rehabilitasi ketergantungan obat terlarang. Contoh tersebut merupakan perilaku menyimpang yang dilatarbelakangi oleh ....
- sosialisasi sub kebudayaan menyimpang
  - sosialisasi yang tidak sempurna
  - perubahan sosial yang terlalu cepat
  - perubahan pola hidup masyarakat
  - kurangnya pengawasan dari masyarakat

11. Perhatikan contoh-contoh berikut!

- Membayar angkutan kota kurang dari tarif yang seharusnya
- Memalsukan tanda tangan pejabat dan stempel kantor
- Tidak mengikuti upacara bendera di sekolah karena terlambat hadir
- Mencabut baut di bantalan rel kereta api untuk mengganggu transportasi
- Mengedarkan obat terlarang di kalangan kelas sosial tertentu

Berdasarkan contoh-contoh di atas, yang merupakan contoh bentuk penyimpangan skunder adalah....

- (1), (2), dan (3)
- (1), (2), dan (4)
- (1), (3), dan (5)
- (2), (4), dan (5)
- (3), (4), dan (5)

12. Pemberitaan media televisi tentang kasus korupsi yang dilakukan oleh oknum pejabat pemerintah, membuat pelaku korupsi lainnya cenderung menghentikan tindakan tersebut. Dari contoh tersebut dapat disimpulkan bahwa tujuan pengendalian sosial tersebut adalah ....

- mengembalikan harta negara
- memanfaatkan media massa
- mengurangi terjadinya penyimpangan
- meningkatkan rating stasiun televisi
- mengurangi fungsi lembaga hukum

13. Beberapa gejala sosial:

- Tim anti madat memberikan penyuluhan tentang bahaya penyalahgunaan narkoba.
- Orang tua bercerita tentang dampak negatif narkoba kepada anak-anaknya.
- Aparat kepolisian melakukan penggerebekan terhadap para pemakai narkoba.
- Ketua RT menyampaikan tata tertib pada saat rapat rutin warga.
- Para pemakai narkoba yang ditangkap dimasukkan ke penjara.

Berdasarkan contoh tersebut yang termasuk pengendalian sosial preventif adalah ....

- (1), (2), dan (3)
- (1), (2), dan (4)
- (1), (3), dan (5)
- (2), (4), dan (5)
- (3), (4), dan (5)

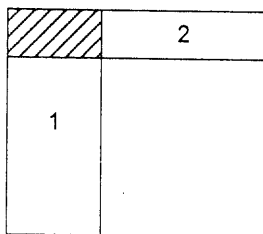


14. Di kota besar banyak pedagang kaki lima yang berjualan tidak pada tempatnya. Setiap hari mereka membayar uang kepada seseorang yang bekerjasama dengan oknum kepolisian, agar di izinkan tetap berjualan di lokasi tersebut. Setelah berlangsung lama, pemerintah daerah merasa kesulitan untuk menertibkan para pedagang tersebut.

Berdasarkan deskripsi tersebut, dapat disimpulkan dampak dari kurang berfungsinya lembaga kepolisian sebagai pengendali sosial adalah ....

- A. masyarakat kehilangan mata pencaharian
- B. bertambahnya peluang bisnis bagi aparat
- C. tidak tercipta ketertiban sosial di masyarakat
- D. terjadi kemacetan di sekitar pemukiman penduduk
- E. kegiatan ekonomi rakyat mendapat perlindungan formal

15. Perhatikan gambar berikut!



- 1. Minang, Islam, Pedagang
- 2. Jawa, Islam, Pedagang

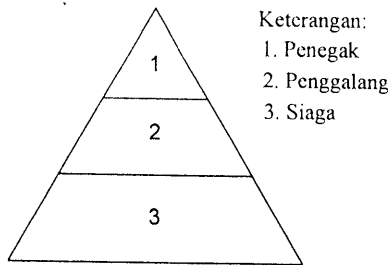
Struktur sosial pada contoh tersebut adalah ....

- A. konsiliasi
- B. kontravensi
- C. intervensi
- D. interseksi
- E. korelasi

16. Di dalam masyarakat dijumpai kelompok sosial yang memiliki nama belakang Sitompul, Napitupulu, Sirait dan sebagainya. Kelompok sosial tersebut dibentuk atas dasar ....
- A. profesi
  - B. hubungan darah
  - C. hoby yang sama
  - D. kesamaan budaya
  - E. asal daerah



17. Bagan struktur sosial di Pramuka:



Struktur sosial tersebut terbentuk atas dasar ....

- A. usia
  - B. keahlian
  - C. jenjang karir
  - D. penghargaan
  - E. pengalaman
18. Pembangunan fasilitas fisik di wilayah perkotaan sangat pesat dan sering disertai dengan pengrusakan rumah penduduk. Sebagian penduduk yang diuntungkan cenderung bersikap setuju terhadap pengrusakan, sementara kelompok yang dirugikan, menolak pengrusakan. Munculnya kelompok pro dan kontra atau konflik pada masyarakat perkotaan tersebut disebabkan oleh faktor ....
- A. proses perubahan yang terlalu cepat
  - B. perbedaan kualitas individu
  - C. tuntutan persaingan yang tinggi
  - D. perbedaan mata pencaharian masyarakat
  - E. perkembangan kebudayaan kelompok
19. Ghofur dan Fajar dua sahabat yang kemanapun mereka pergi selalu berdua. Pada suatu saat keduanya terlibat cinta segitiga, dan keduanya tidak mau saling mengalah akhirnya keduanya berselisih dan bermusuhan. Setelah kejadian tersebut keduanya tidak lagi terlihat bersamaan. Ilustrasi tersebut menunjukkan dampak negatif suatu konflik berupa ....
- A. dominasi kelompok pemenang
  - B. adanya perubahan kepribadian
  - C. hancurnya rasa percaya diri
  - D. keretakan hubungan antarindividu
  - E. jatuhnya harga diri seseorang
20. Sengketa tapal batas antara dua negara bertetangga diselesaikan dengan cara melakukan dialog diplomasi bilateral. Kedua pihak sepakat membuat tugu batas wilayah di tempat yang ditetapkan bersama dengan biaya patungan. Cara penyelesaian konflik tersebut berupa akomodasi sosial dalam bentuk ....
- A. kompromi
  - B. konsiliasi
  - C. ajudikasi
  - D. mediasi
  - E. arbitrase

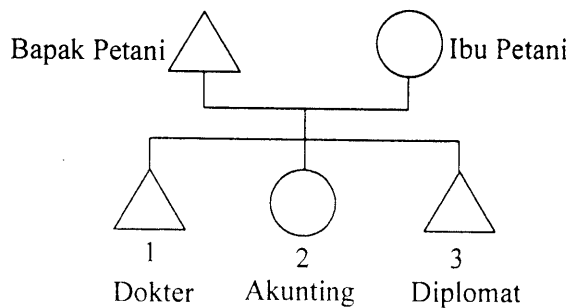


21. Beberapa contoh mobilitas sosial
- (1) Masyarakat menganut sistem feodalisme
  - (2) Pandangan tradisional tentang perempuan yang tidak perlu maju.
  - (3) Imigran Afganistan meminta suaka politik ke Australia.
  - (4) Sikap diskriminasi terhadap kelompok minoritas.
  - (5) Anggota masyarakat memiliki hasrat untuk mengubah status sosialnya.

Dari contoh tersebut yang termasuk faktor penghambat mobilitas sosial adalah....

- A. (1), (2), dan (3)
- B. (1), (2), dan (4)
- C. (1), (3), dan (5)
- D. (2), (4), dan (5)
- E. (3), (4), dan (5)

22. Bagan mobilitas sosial :



Bentuk mobilitas sosial pada gambar tersebut adalah ....

- A. horizontal turun
- B. vertikal naik
- C. vertikal antargenerasi naik
- D. vertikal intragenerasi naik
- E. horizontal antargenerasi turun

23. Seseorang tamatan Sekolah Menengah Atas yang mempunyai kemampuan fisik dan kesehatan yang baik berhasil lulus masuk Akademi Militer Angkatan Darat. Ketika pangkatnya kolonel, ia terpilih menjadi komandan pasukan perdamaian Tentara Indonesia di Timur Tengah karena situasi politik di wilayah itu sedang panas. Saluran mobilitas yang digunakan adalah ....

- A. lembaga hukum
- B. organisasi politik
- C. angkatan bersenjata
- D. organisasi ekonomi
- E. saluran perkawinan



24. Setelah lulus kuliah, seorang anak pergi merantau, ketika pulang kampung mengunjungi orang tua, kedua orang tuanya prihatin dengan tingkah laku anaknya yang lebih berani berargumentasi ketika dinasehati. Bahkan sudah berani meninggalkan tradisi nenek moyang yang masih dijunjung tinggi di kampung halamannya. Dari contoh tersebut dapat disimpulkan bahwa salah satu dampak mobilitas sosial adalah terjadinya ....
- konflik antargenerasi tua dan muda
  - hilangnya rasa cinta anak kepada orang tua
  - hancurnya kewibawaan para pemimpin pemerintah
  - tersumbatnya saluran mobilitas bagi generasi muda
  - terpeliharanya nilai-nilai peninggalan nenek moyang
25. Jamaah haji melakukan wukuf di Arafah pada tanggal 10 Dzulhijah. Jutaan umat muslim berkumpul untuk menyempurnakan ibadah haji. Ikatan sosial yang mendasari kebersamaan dalam melaksanakan aktivitas tersebut adalah ....
- sesuatu yang dianggap sakral
  - ikatan batin yang sangat kuat
  - ikatan persaudaraan yang tinggi
  - latar belakang etnis dan agama
  - kesamaan kewilayahan dan kepentingan
26. Perhatikan gejala sosial berikut:
- (1) Menerima kehadiran orang lain yang berbeda kultur.
  - (2) Semangat memegang teguh tradisi dan budaya.
  - (3) Toleransi terhadap hal-hal yang tidak seprinsip dengan dirinya.
  - (4) Mengembangkan sikap eksklusif, primordialis dan fanatisme suku bangsa.
  - (5) Menganggap orang lain yang berbeda memiliki kesederajatan di masyarakat.
- Perilaku di atas yang dapat mendorong tercipta kehidupan multikultural adalah ....
- (1), (2), dan (3)
  - (1), (2), dan (4)
  - (1), (3), dan (5)
  - (2), (4), dan (5)
  - (3), (4), dan (5)
27. Masyarakat Indonesia terdiri dari beberapa etnis yang berbeda. Melalui program transmigrasi banyak penduduk etnis Jawa yang merupakan etnis terbesar di Indonesia dipindahkan ke pulau lain yang relatif tidak padat. Konfigurasi dari deskripsi tersebut adalah ....
- mayoritas dominan
  - minoritas dominan
  - kompetisi seimbang
  - fragmentasi sosial
  - kelompok sosial
28. Secara sosiologis keberhasilan pemerintah menangani berbagai pergolakan di daerah yang akan memisahkan diri dari NKRI berdampak positif untuk memperkuat ....
- budaya nasional
  - ekonomi nasional
  - anggaran nasional
  - kepemimpinan nasional
  - integrasi nasional



29. Beberapa kondisi masyarakat:

- (1) Isolasi karena bentuk wilayah kepulauan
- (2) Letak geografis yang strategis diapit dua benua dan samudra
- (3) Banyak gunung berapi yang aktif dan tidak aktif
- (4) Iklim dan struktur tanah yang berbeda-beda
- (5) Berkembangnya hubungan politik dengan luar negeri

Latar belakang terbentuknya masyarakat majemuk di Indonesia adalah ....

- A. (1), (2), dan (3)
- B. (1), (2), dan (4)
- C. (1), (3), dan (5)
- D. (2), (4), dan (5)
- E. (3), (4), dan (5)

30. Perhatikan pernyataan berikut:

- (1) Meskipun Andreas orang Manado, tetapi ia sangat menyukai seni wayang
- (2) Ketika mendengar gamelan Jawa, Bindar Siregar menggerutu karena membuat kantuk
- (3) Pak Hamid Lubis menyukai pakaian dengan bahan batik
- (4) Hartati selalu mengagungkan tari-tarian dari daerahnya
- (5) Tari tor-tor, tidak atraktif, dan monoton, kata seseorang dari suku Bali

Tindakan sosial yang tidak sesuai dengan realitas masyarakat multikultural adalah ....

- A. (1), (2), dan (3)
- B. (1), (2), dan (4)
- C. (1), (3), dan (5)
- D. (2), (4), dan (5)
- E. (3), (4), dan (5)

31. Mac Iver mengatakan perubahan sosial adalah perubahan yang terjadi dalam hubungan-hubungan sosial atau perubahan terhadap keseimbangan-keseimbangan hubungan sosial tersebut. Definisi perubahan tersebut menjelaskan tentang ....

- A. sebab perubahan
- B. dampak perubahan
- C. aspek perubahan
- D. bentuk perubahan
- E. dasar perubahan

32. Pendidikan gratis sampai jenjang SMA dan Kartu Jakarta Sehat (KJS) membawa dampak pada rendahnya angka anak putus sekolah dan terjaminnya kesehatan masyarakat marjinal di DKI Jakarta sesuai program kerja gubernur. Dilihat dari bentuknya, maka perubahan sosial tersebut termasuk bentuk perubahan ....

- A. besar
- B. cepat
- C. revolutif
- D. evolutif
- E. dikehendaki





33. Warga masyarakat perkotaan cenderung lebih terbuka. Mereka sudah biasa berinteraksi dan bekerja sama dengan orang lain yang berbeda suku, ras, dan agama. Dampak positif dari proses mutual akulturasi tersebut adalah ....
- mempercepat proses modernisasi
  - menghilangkan perbedaan sosial
  - mengurangi sentimen kelompok primordial
  - memudahkan identitas kepribadian individu
  - mendorong homogenitas masyarakat luas
34. Program internet masuk desa, membawa banyak perubahan perilaku pada masyarakat desa terutama remaja di pedesaan. Dampak positif program tersebut pada perilaku remaja adalah ....
- anak muda pedesaan menjadi konsumtif
  - wawasan anak desa menjadi berkembang negatif
  - kehidupan di pedesaan menjadi sejahtera
  - menukar informasi antar warga desa
  - daya kritis anak desa menjadi lebih tinggi terhadap desanya
35. Banyak perusahaan modern membeli peralatan baru (meskipun mahal) untuk memperlancar aktivitas produksi maupun distribusi barang. Langkah modernisasi tersebut ditempuh untuk ....
- meningkatkan efisiensi kerja
  - membangun jaringan usaha
  - menemukan sistem kerja baru
  - mengembangkan produksi jasa
  - memperoleh nilai tambah
36. Pada masyarakat yang masih bersifat tradisional, mereka menganggap tenaga medis sebagai sesuatu yang tidak penting, karena mereka lebih menganggap dukun sebagai figur yang berjasa mengobati warga desa. Faktor penghambat perubahan sosial pada deskripsi tersebut adalah ....
- vested interest*
  - pendidikan yang minim
  - pengaruh tokoh adat
  - prasangka terhadap hal baru
  - sikap eksklusif masyarakat desa
37. Perhatikan pernyataan berikut:
- Memiliki tradisi dan tata tertib
  - Memerlukan alat perlengkapan untuk beraktifitas
  - Memiliki simbol dan bersifat super organik
  - Terdiri dari sejumlah lapisan sosial yang teratur
  - Perilaku yang disesuaikan dengan kedudukan sosial
- Yang menjadi ciri lembaga sosial adalah ....
- (1), (2), dan (3)
  - (1), (2), dan (4)
  - (1), (3), dan (5)
  - (2), (4), dan (5)
  - (3), (4), dan (5)



Sosiologi SMA/MA IPS

38. Salah satu tipe lembaga sosial dilihat dari sistem nilai yang diterima oleh masyarakat adalah tipe *subsidiary institutions*, salah satu ciri dari lembaga tersebut adalah ....
- A. dianggap masyarakat kurang penting
  - B. memelihara dan mempertahankan tata tertib
  - C. lembaga yang tidak sengaja tumbuh dari adat
  - D. lembaga yang sengaja di bentuk untuk mencapai tujuan
  - E. bisa diterima oleh seluruh masyarakat pendukungnya
39. Keluarga Bapak Agus merupakan keluarga yang harmonis dan sejahtera. Dapat dikatakan demikian karena semua anggota keluarga tidak pernah mengalami masalah yang dapat merugikan pihak lain. Anak-anak selalu patuh dan memperhatikan nasehat orang tua. Hubungan antarkeluarga diwarnai saling asih, asah dan asuh.
- Fungsi keluarga dari ilustrasi tersebut menunjukkan fungsi afeksi yaitu....
- A. melanjutkan silsilah keluarga
  - B. mendukung perekonomian keluarga
  - C. melindungi anak secara fisik dan psikis
  - D. melatih nilai-nilai budaya kepada anak
  - E. mencurahkan kasih sayang antar anggota keluarga
40. Wilayah Indonesia yang terbentang luas perlu diperkenalkan kepada seluruh masyarakat melalui pendidikan. Kemajemukan etnis dan agama bisa menjadi bahan diskusi menarik untuk disikapi secara cerdas dan bijaksana agar tidak terjadi konflik horizontal. Fungsi manifes aktifitas lembaga pendidikan pada contoh tersebut adalah ....
- A. mencerdaskan, mendewasakan
  - B. melatih tanggung jawab sosial
  - C. transfer ilmu pengetahuan
  - D. mengantarkan anak ke dunia kerja
  - E. menjaga persatuan kesatuan nasional
41. Pilpres digelar lima tahun sekali sesuai ketentuan perundangan yang berlaku di Indonesia. Dengan Presiden dipilih langsung oleh rakyat diharapkan akan mampu mengemban amanah dan memerhatikan kesejahteraan rakyat. Tujuan lembaga politik dari ilustrasi tersebut adalah ....
- A. mewujudkan keadilan dan kesejahteraan masyarakat sesuai amanah rakyat
  - B. memerhatikan aturan yang berlaku untuk melangsungkan kekuasaan
  - C. membuat aturan agar setiap penyelenggaraan pilpres ada peluang untuk menang
  - D. mengemban tugas amanah yang diberikan oleh partai pendukungnya
  - E. mengatur dan menyelenggarakan pelaksanaan Pemilihan Umum
42. Aktivitas lembaga ekonomi pada sektor agraris merupakan pertanian seperti bersawah, perladangan, perkebunan, perikanan dan peternakan. Sektor agraris pada dasarnya melalui tahap-tahap dari yang sederhana, transisi dan modern sejalan dengan perkembangan ilmu pengetahuan dan teknologi dalam masyarakat. Adapun fungsi lembaga ekonomi pada sektor tersebut adalah memberi pedoman tentang....
- A. melakukan pertukaran barang/barter
  - B. harga jual beli barang
  - C. cara pengupahan
  - D. cara pemutusan hubungan kerja
  - E. mendapat bahan pangan



43. Para pemuka agama mengajarkan agar umat manusia mempunyai akhlak yang baik dalam hubungannya dengan Sang Pencipta dan sesama manusia. Secara horizontal, lembaga agama berfungsi untuk ....
- memberikan dasar moral dalam menciptakan kehidupan sosial yang harmonis
  - mengatur kehidupan bersama agar manusia mencintai Tuhannya
  - mengembangkan kesalehan pribadi untuk menembah Tuhannya
  - menjaga kelangsungan hidup dengan cara berketurunan
  - mendorong individu untuk bekerja lebih keras
44. Sebuah penelitian memfokuskan masalah penelitiannya pada satu variabel dengan kajian yang mendalam dan teknik pengumpulan data yang digunakan adalah wawancara. Jenis penelitian tersebut adalah ....
- eksperimen
  - kuantitatif
  - eksploratif
  - deskriptif
  - eksplanatif
45. Judul penelitian : "Hubungan Antara Pengangguran Dengan Meningkatnya Kriminalitas di Perkotaan". Variabel bebas dari judul penelitian tersebut adalah ....
- perkotaan
  - pengangguran
  - meningkatnya
  - kriminalitas di kota besar
  - hubungan pengangguran dan kriminalitas
46. Kondisi objek penelitian sebagai berikut:  
Di suatu sekolah para siswa diminta untuk belajar sosiologi menggunakan studi kasus. Masing-masing kelompok dibolehkan mengambil kasus berbeda, baik yang dipublikasikan oleh media masa maupun kasus lain yang mereka temui di lingkungannya. Pada awal diskusi kelompok, para siswa tidak tahu apa yang harus mereka kerjakan. Setelah menyepakati kasus yang akan diangkat, tiap-tiap kelompok melakukan tahapan kerja berbeda. Hal tersebut bisa diatasi setelah guru membagikan LKS yang berisi petunjuk teknis belajar studi kasus.
- Dari kondisi objek penelitian tersebut, peneliti ingin mengetahui peran LKS dalam aktivitas pembelajaran, maka rumusan masalahnya yang tepat adalah ....
- Apakah belajar kelompok lebih baik daripada individu?
  - Bagaimanakah kasus-kasus tersebut menjadi pembicaraan publik?
  - Apakah siswa tingkat SMA sudah mampu memecahkan kasus?
  - Bagaimana langkah-langkah studi kasus agar efektif?
  - Bagaimana pengaruh LKS terhadap kelancaran belajar studi kasus?



## Sosiologi SMA/MA IPS

47. Pemerintah melakukan penelitian tentang tingkat pendidikan masyarakat Indonesia. Dengan pertimbangan efisiensi karena masyarakatnya tersebar di beberapa wilayah, maka peneliti mengambil sampel responden dari beberapa daerah saja. Teknik pengambilan sampel tersebut adalah ....
- A. sampel bertujuan
  - B. sampel wilayah
  - C. sampel kuota
  - D. sampel acak
  - E. sampel berstrata
48. Angket memiliki banyak bentuk, salah satunya angket tertutup. Kelebihan angket tertutup dibanding instrumen lainnya yaitu ....
- A. responden memiliki kesempatan untuk menyesuaikan isi pemikiran
  - B. variasi jawaban dapat memperluas wawasan peneliti
  - C. responden dapat mengisi angket sesuai alternatif jawaban yang tersedia
  - D. sulit mengolah karena jawaban yang diajukan responden banyak
  - E. menjawab item soal di angket memakan waktu yang lama

49. Perhatikan tabel berikut!

Cara lulusan SMA masuk Perguruan Tinggi

No	Jalur Masuk	F	%
1	Mandiri	43	43,88
2	Prestasi	20	20,41
3	Seleksi reguler	35	35,71

Dari tabel tersebut dapat disimpulkan bahwa jalur masuk perguruan tinggi dilakukan secara ....

- A. demokrasi
  - B. profesional
  - C. beragam
  - D. terbuka
  - E. legal
50. Salah satu bagian dari laporan penelitian adalah tinjauan pustaka. Kegunaan bagian ini dalam laporan penelitian adalah ....
- A. mengarahkan jalannya penelitian
  - B. menunjukkan kerangka berpikir peneliti
  - C. memperkuat konsep dan sintesa peneliti
  - D. mempermudah proses pengumpulan data
  - E. membantu peneliti dalam mengolah data