



Nama :	
No Peserta :	108

- Perhatikan ciri-ciri sosiologi berikut:
  - (1) Didasarkan pada observasi terhadap kenyataan dengan akal sehat serta tidak spekulatif
  - (2) Menggunakan metode kuantitatif berdasarkan perhitungan matematis
  - (3) Realitas sebagai dasar menyusun teori baru untuk penyempurnaan dari teori lama
  - (4) Data diolah secara subyektif dimana imajinasi pribadi masuk dalam data
  - (5) Fakta dianalisa secara kritis tanpa memperhatikan baik buruknya fakta

Pernyataan di atas yang merupakan ciri-ciri sosiologi adalah ....

  - (1), (2), dan (3)
  - (1), (2), dan (4)
  - (1), (3), dan (5)
  - (2), (4), dan (5)
  - (3), (4), dan (5)
- Para pedagang kaki lima (PKL) banyak yang berjualan di pinggir jalan, untuk memelihara ketertiban pemerintah daerah merelokasi para pedagang kaki lima terpusat di tepi kota. Berdasarkan kasus tersebut sosiologi berfungsi sebagai ...
  - perencana pembangunan
  - pengambil keputusan
  - pemecahan masalah
  - kekuatan sosial
  - pengawas sosial
- Andi selalu memakai helm ketika berkendara di jalan raya. Ia juga membawa SIM, STNK dan tidak pernah melanggar aturan lalu lintas yang berlaku. Perilaku Andi mencerminkan kepatuhan terhadap norma ....
  - hukum
  - agama
  - sosial
  - kesopanan
  - kesusilaan
- Di dalam sebuah kantor terdapat jabatan yang berbeda dan memiliki tugas dan fungsi masing-masing. Satpam menanyakan keperluan setiap orang yang datang. Resepsionis menyapa setiap tamu yang datang. *Cleaning service* membersihkan bagian kantor yang kotor. Kegiatan tersebut dilakukan sesuai peran masing-masing tanpa komando. Kondisi tersebut menggambarkan telah tercipta ....
  - keajegan
  - aturan yang berlaku
  - pola
  - perilaku
  - keteraturan sosial



## Sosiologi SMA/MA IPS

5. Teman sebaya merupakan agen sosialisasi yang banyak pengaruhnya terhadap kepribadian seorang anak, mengingat sebagian besar waktunya dihabiskan bersama. Banyak nilai yang didapatkan dari proses ini seperti belajar menghargai kawan, kepemimpinan, kejujuran, setiakawan dan lainnya.

Teman sebaya dalam kaitannya dengan pembentukan kepribadian memiliki fungsi ....

- A. meletakkan dasar kepribadian individu
  - B. memberi perlindungan dari gangguan teman lain
  - C. menanamkan nilai dan norma
  - D. membentuk individu siap masuk sekolah
  - E. membentuk manusia mandiri
6. Seorang anak mulai mengenal anggota keluarga yang lain dalam lingkungan keluarganya. Secara bertahap ia mulai mampu membedakan dirinya dengan anggota keluarga yang lain dan orang-orang di sekitar keluarganya. Berdasarkan contoh di atas, anak tersebut mengalami bentuk sosialisasi ....
- A. primer
  - B. sekunder
  - C. tesiar
  - D. kuarter
  - E. formal
7. Seorang guru menayangkan film tentang penyandang cacat yang tidak menyerah dengan kondisi fisik yang tidak sempurna sehingga menuai sukses. Setelah melihat film itu, seorang murid terinspirasi untuk belajar lebih giat lagi dan merasa malu jika ia yang memiliki fisik sempurna tetapi tidak berprestasi. Tindakan pelajar tersebut dipengaruhi oleh faktor ....
- A. motivasi
  - B. simpati
  - C. sugesti
  - D. imitasi
  - E. identifikasi
8. Menjelang Pilkada untuk pemilihan Walikota Semarang partai-partai politik melakukan kerjasama dengan tujuan memenangkan Pilkada. Ditinjau dari bentuk interaksi sosialnya, tujuan kerjasama dalam memenangkan Pilkada termasuk ....
- A. koalisi
  - B. *joint venture*
  - C. kooptasi
  - D. bersaing
  - E. koersi



9. Perhatikan beberapa contoh interaksi sosial !
- (1) Rudi memeluk teman lamanya yang sudah lima tahun tidak jumpa
  - (2) Egi menyampaikan pesan dari Danu untuk Bella
  - (3) Sari menghias diri di salon favoritnya
  - (4) Andika menelpon pamannya yang berada di Yogyakarta
  - (5) Carissa membaca buku di kamarnya

Pernyataan tersebut yang menunjukkan adanya interaksi sosial adalah ....

- A. (1), (2), dan (3)
  - B. (1), (2), dan (4)
  - C. (1), (4), dan (5)
  - D. (2), (3), dan (5)
  - E. (3), (4), dan (5)
10. Akibat perceraian orang tuanya. Seorang anak menjadi labil, sering murung bahkan membolos sekolah. Sosialisasi yang tidak sempurna tersebut disebabkan oleh ....
- A. nilai dan norma sosial
  - B. disorganisasi keluarga
  - C. pengaruh kelompok persahabatan
  - D. pengendalian pihak sekolah belum maksimal
  - E. perubahan sosial terjadi secara cepat dan mendasar

11. Perhatikan pernyataan berikut:
- (1) Mengambil aliran listrik dari kabel listrik depan rumah
  - (2) Menerobos lampu merah karena tidak ada polisi
  - (3) Seorang pemabuk membuat onar dan meresahkan warga sekitar
  - (4) Mencontek saat ulangan karena semalam tidak belajar
  - (5) Pencopet melakukan perampasan perhiasan di dekat lampu merah

Yang merupakan perilaku menyimpang sekunder ditunjukkan oleh nomor ....

- A. (1), (2), dan (3)
  - B. (1), (2), dan (4)
  - C. (1), (3), dan (5)
  - D. (2), (4), dan (5)
  - E. (3), (4), dan (5)
12. Terlambat masuk kelas, membolos, dan merokok sering terjadi di sekolah. Seorang guru BK melakukan pengendalian sosial dengan cara mengajak para siswa agar mematuhi norma yang berlaku di lingkungan sekolah. Karena pada dasarnya pengendalian sosial memiliki tujuan untuk ....
- A. menciptakan masyarakat bebas berkreasi
  - B. menciptakan masyarakat yang tertib dan teratur
  - C. menggalang kesatuan dalam kelompoknya
  - D. menciptakan masyarakat adil dan sejahtera
  - E. mendapatkan kehidupan yang dinamis

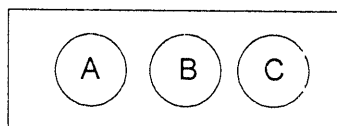


13. Perhatikan gejala sosial berikut!
- (1) Pelaku pencurian dan pembunuhan dihukum penjara
  - (2) Anak yang pulang ke rumah terlambat dihukum mencuci piring
  - (3) Perintah hukuman tembak mati bagi provokator di daerah konflik
  - (4) Sebelum musim hujan pemprov DKI Jakarta melakukan pengerukan sungai dan waduk
  - (5) Masyarakat modern berolah raga teratur dan makan makanan sehat agar tidak sakit

Berdasarkan gejala sosial tersebut yang termasuk pengendalian sosial represif adalah ....

- A. (1), (2), dan (3)
  - B. (1), (2), dan (4)
  - C. (1), (3), dan (5)
  - D. (2), (4), dan (5)
  - E. (3), (4), dan (5)
14. Bagi sebagian penjahat, penjara bukanlah tempat yang menakutkan. Mereka bisa melihat banyak kasus besar yang divonis ringan bahkan bebas. Sementara itu ada kasus pencurian kecil-kecilan yang hanya untuk makan sehari-hari dihukum berat. Masyarakat luas menengarai bahwa hal itu tidak adil. Akibat dari tidak berfungsinya lembaga hukum dalam menciptakan keadilan di masyarakat adalah ....
- A. kehidupan ekonomi masyarakat makin sulit
  - B. kejahatan semakin banyak dan mencemaskan
  - C. tidak adanya sanksi dalam masyarakat
  - D. masyarakat peduli dengan pelanggaran hukum
  - E. banyak muncul pengacara muda untuk membantu tersangka

15. Perhatikan gambar berikut!



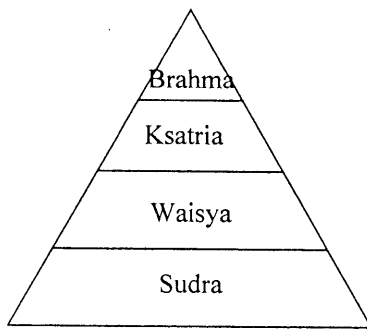
Keterangan gambar: A. Islam  
B. Kristen  
C. Hindu

Ikatan sosial pada gambar tersebut berbentuk ....

- A. toleransi
  - B. intervensi
  - C. integrasi
  - D. konsolidasi
  - E. interseksi
16. Keluarga merupakan kelompok primer yang terdapat di dalam masyarakat, yang terdiri dari bapak, ibu, dan anak. Ikatan sosial yang mendasari terbentuknya kelompok tersebut adalah .....
- A. interaksi sekunder
  - B. ikatan darah
  - C. hubungan sosial yang formal
  - D. memiliki perjanjian tertulis
  - E. solidaritas yang sementara



17. Gambar statifikasi :



Proses terjadinya pelapisan sosial dalam masyarakat pada bagan di atas ditentukan atas dasar ....

- A. asal usul/keturunan
  - B. kekuasaan
  - C. kekayaan
  - D. kedudukan di kantor
  - E. mata pencaharian
18. Pembangunan fasilitas fisik di wilayah perkotaan sangat pesat dan sering disertai dengan penggusuran rumah penduduk. Sebagian penduduk yang diuntungkan cenderung bersikap setuju terhadap penggusuran, sementara kelompok yang dirugikan, menolak penggusuran. Munculnya kelompok pro dan kontra atau konflik pada masyarakat perkotaan tersebut disebabkan oleh faktor ....
- A. proses perubahan yang terlalu cepat
  - B. perbedaan kualitas individu
  - C. tuntutan persaingan yang tinggi
  - D. perbedaan mata pencaharian masyarakat
  - E. perkembangan kebudayaan kelompok
19. Orang tua seorang gadis tidak setuju dengan calon suami pilihan putrinya karena tidak sesuai keinginan orang tua. Karena cintanya pada calon suami, gadis tersebut tetap melangsungkan perkawinan meski tidak dihadiri kedua orang tuanya. Konflik antara anak dengan orang tua tersebut merembet kepada keluarga besar dan menantu.
- Dampak negatif konflik tersebut bagi ikatan sosial kedua keluarga besar adalah ....
- A. silaturahmi antara anak dengan orang tua menjadi putus
  - B. kedua orang tua ingin agar anak gadisnya menggugat cerai
  - C. pasangan keluarga muda itu tidak menaruh hormat kepada orang tua
  - D. hubungan kekeluargaan dua keluarga menjadi renggang
  - E. cucu yang lahir nanti tidak akan dikenalkan dengan nenek kakeknya
20. Pak Muslim mempertemukan dan menjadi penengah kedua kemenakannya yang sedang berselisih sejak sebulan terakhir terkait dengan batas tanah peninggalan orangtua mereka. Bentuk akomodasi yang diperankan Pak Muslim tergolong kepada ....
- A. mediasi
  - B. koersi
  - C. konsolidasi
  - D. arbitrase
  - E. ajudikasi



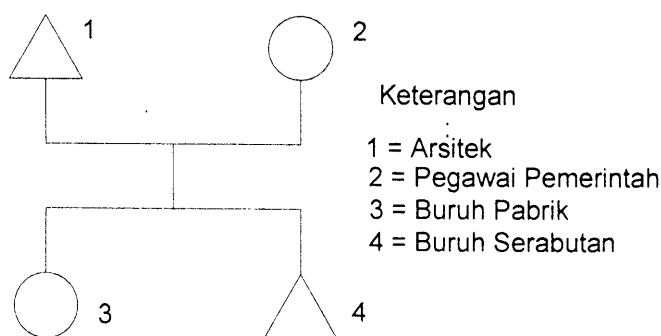
21. Contoh mobilitas sosial!

- (1) Adanya usaha masyarakat untuk mengubah status sosialnya.
- (2) Banyak orang yang meminta suaka politik ke negara lain karena situasi politik di negaranya sedang kacau.
- (3) Masih banyaknya masyarakat yang menganut sistem kehidupan feodalis.
- (4) Kepadatan penduduk yang tinggi menyebabkan penduduk melakukan transmigrasi.
- (5) Masih adanya penerapan diskriminasi pada kehidupan masyarakat.

Berdasarkan contoh di atas yang termasuk faktor pendorong mobilitas sosial adalah ....

- A. (1), (2), dan (3)
- B. (1), (2), dan (4)
- C. (1), (3), dan (5)
- D. (2), (4), dan (5)
- E. (3), (4), dan (5)

22. Bagan mobilitas:



Gambar tersebut (1 – 4) menunjukkan adanya mobilitas ....

- A. vertikal geografis
- B. horizontal geografis
- C. horizontal intragenerasi
- D. vertikal naik antargenerasi
- E. vertikal turun antargenerasi

23. Setelah lulus program sarjana Anton bekerja di perusahaan besar dengan jabatan dan gaji yang cukup tinggi. Hal tersebut dikarenakan semasa kuliah dia merupakan mahasiswa yang berprestasi. Saluran mobilitas sosial yang digunakan pada contoh tersebut adalah ....

- A. lembaga ekonomi
- B. lembaga pendidikan
- C. lembaga politik
- D. organisasi profesi
- E. organisasi kepemudaan

24. Seorang anak dari keluarga akademisi, tidak mau melanjutkan kuliah usai tamat SMA. Ayah dan ibunya yang bekerja sebagai peneliti dan dosen di Perguruan Tinggi ternama tidak bisa diikuti jejaknya. Konsekuensi dari mobilitas sosial tersebut adalah ....

- A. konflik antargenerasi
- B. peningkatan strata keluarga
- C. perubahan kepribadian orang tua
- D. konflik horizontal antara anak dan orang tua
- E. status sosial seseorang ditentukan oleh keluarga



25. Sekelompok orang yang berkumpul di tempat penjual jamu atau menonton konser musik, memiliki fokus perhatian pada objek yang sama. Akan tetapi sesama mereka tidak ada interaksi intensif. Bentuk kelompok sosial tersebut adalah ....
- kelompok proimer
  - kerumunan
  - publik
  - massa
  - kelompok sekunder
26. Perhatikan kehidupan sosial berikut!
- Kelompok sosial hidup dengan terkotak-kotak (heterogen)
  - Dominasi kelompok terhadap kelompok lain
  - Integrasi sosial didasarkan atas kesadaran bersama
  - Adanya toleransi antarkelompok sosial
  - Terjadi akulturasi dan asimilasi sosial
- Ciri-ciri masyarakat multikultural pada deskripsi tersebut adalah ....
- (1), (2), dan (3)
  - (1), (3), dan (4)
  - (1), (3), dan (5)
  - (2), (4), dan (5)
  - (3), (4), dan (5)
27. Masyarakat multikultural di Indonesia ditandai oleh keberagaman dalam agama. Jumlah terbesar pemeluk agama (umat beragama) di Indonesia adalah masyarakat Islam. Sesama umat beragama menjalin hubungan sosial yang harmonis. Komposisi tersebut menunjukkan konfigurasi masyarakat multikultural yaitu ....
- fragmental sosial
  - minoritas dominan
  - mayoritas seimbang
  - mayoritas dominan
  - kompetisi seimbang
28. Secara sosiologis keberhasilan pemerintah menangani berbagai pergolakan di daerah yang akan memisahkan diri dari NKRI berdampak positif untuk memperkuat ....
- budaya nasional
  - ekonomi nasional
  - anggaran nasional
  - kepemimpinan nasional
  - integrasi nasional



29. Perhatikan pernyataan berikut!
- (1) Terletak di antara dua benua dan dua samudra
  - (2) Budaya bersifat homogen dan ada sedikit kontak budaya
  - (3) Kondisi geografis karena bentuk negara kepulauan
  - (4) Benturan kepentingan antara kelompok yang berbeda budaya
  - (5) Struktur tanah dan iklim serta cuaca yang berbeda

Pernyataan tersebut yang merupakan faktor penyebab Indonesia memiliki suku bangsa yang majemuk adalah ....

- A. (1), (2), dan (3)
- B. (1), (2), dan (4)
- C. (1), (3), dan (5)
- D. (2), (4), dan (5)
- E. (3), (4), dan (5)

30. Beberapa perilaku dalam masyarakat!
- (1) Memilih pemimpin yang berasal dari putra daerah
  - (2) Menganggap rendah keberadaan suku bangsa lain.
  - (3) Pernikahan laki-laki dan perempuan yang berbeda etnik.
  - (4) Menghargai solidaritas antara kelompok suku bangsa berbeda.
  - (5) Menyukai hasil budaya suku bangsa lain

Perilaku yang sesuai dengan masyarakat multikultural adalah ....

- A. (1), (2), dan (3)
- B. (1), (2), dan (4)
- C. (1), (3), dan (5)
- D. (2), (4), dan (5)
- E. (3), (4), dan (5)

31. Perubahan sosial merupakan variasi dari cara hidup yang telah diterima baik karena perubahan kondisi geografis, kebudayaan material, komposisi penduduk, ideologi, maupun karena adanya difusi atau penemuan baru dalam masyarakat. Makna perubahan sesuai dengan pengertian di atas adalah bahwa ....
- A. arti perubahan dilihat dari cara hidup sehat
  - B. pola perubahan selalu diterima semua orang
  - C. sebab perubahan setiap unsur berpengaruh terhadap proses perubahan
  - D. tujuan perubahan untuk memperkaya kebudayaan material
  - E. selalu dibutuhkan penemuan baru untuk melakukan perubahan

32. Program rehabilitasi kota Bantul di Daerah Istimewa Yogyakarta pasca gempa beberapa tahun lalu disusun sedemikian rupa dengan melibatkan berbagai pihak termasuk pemerintah pusat. Dilihat dari rekayasa yang dilakukan oleh berbagai pihak itu, contoh kasus tersebut mencerminkan bentuk perubahan sosial ....
- A. revolusi
  - B. direncanakan
  - C. evolusi
  - D. besar pengaruhnya
  - E. tidak dikehendaki





33. Warga masyarakat perkotaan cenderung lebih terbuka. Mereka sudah biasa berinteraksi dan bekerja sama dengan orang lain yang berbeda suku, ras, dan agama. Dampak positif dari proses mutual akulturasi tersebut adalah ....
- mempercepat proses modernisasi
  - menghilangkan perbedaan sosial
  - mengurangi sentimen kelompok primordial
  - memudahkan identitas kepribadian individu
  - mendorong homogenitas masyarakat luas
34. Hasil pemilihan umum legislatif maupun eksekutif kini bisa diketahui oleh masyarakat luas dalam tempo singkat sebelum KPU mengumumkan hasil secara resmi. Hadirnya lembaga survei yang memiliki jaringan di berbagai wilayah yang dilengkapi dengan alat komunikasi canggih bisa melakukan teknik hitung cepat/*quick count* yang hasilnya relatif akurat. Perubahan sosial tersebut disebabkan oleh ....
- faktor demografi
  - pergeseran nilai norma
  - penyesuaian akan kebutuhan
  - inovasi di bidang teknologi informasi
  - penemuan di bidang ilmu dan teknologi
35. Kebijakan larangan ekspor bahan kayu mentah dapat mendorong industri mebel dalam negeri. Para pengrajin mebel dapat menjual produk mebel dengan harga tinggi. Kebijakan sektor industri tersebut bertujuan untuk ....
- membangun masyarakat baru
  - mendapatkan nilai tambah
  - menjaga keteraturan ekonomi
  - memperoleh fasilitas mewah
  - menciptakan kehidupan praktis
36. Perhatikan pernyataan berikut!
- Pertentangan antarkelompok atau golongan dalam negara
  - Urbanisasi di perkotaan membuat jumlah penduduk kota meningkat.
  - Produk buatan asing membanjiri pasar dan mall di kota besar.
  - Perang saudara antara tentara pemerintah dan tentara oposisi.
  - Bencana banjir bandang merubah struktur sosial masyarakat.
- Pernyataan tersebut yang merupakan faktor eksternal penyebab perubahan sosial yaitu ....
- (1), (2), dan (3)
  - (1), (2), dan (4)
  - (1), (3), dan (5)
  - (2), (4), dan (5)
  - (3), (4), dan (5)



37. Perhatikan ciri-ciri lembaga.

- (1) Memiliki tingkat kekekalan tertentu
- (2) Memiliki tujuan yang ingin dicapai atau diwujudkan
- (3) Tidak mempunyai simbol yang khas
- (4) Mempunyai dokumen baik tertulis atau tidak tertulis
- (5) Tidak didukung oleh organisasi.

Pernyataan tersebut yang merupakan ciri-ciri lembaga sosial adalah ....

- A. (1), (2), dan (3)
- B. (1), (2), dan (4)
- C. (1), (3), dan (5)
- D. (2), (4), dan (5)
- E. (3), (4), dan (5)

38. Lembaga keagamaan seperti NU dan Muhammadiyah, merupakan salah satu tipe lembaga yang diterima oleh masyarakat yaitu *basic institution*. Tipe dari lembaga sosial tersebut adalah ....

- A. memiliki sistem nilai yang mendasar
- B. tumbuh dari adat istiadat masyarakat
- C. kurang penting bagi sebagian masyarakat
- D. tidak sengaja dibentuk karena tidak penting
- E. ditolak oleh masyarakat karena tidak berguna

39. Kasih sayang yang tulus tanpa pamrih diberikan orangtua kepada anak-anaknya. Banyak kasus dimana anak melukai hati orang tua dan menciderai nama baik keluarga, tetapi orang tua masih memaafkan anaknya. Ilustrasi tersebut menunjukkan lembaga keluarga berfungsi ....

- A. proteksi
- B. edukasi
- C. afeksi
- D. sosialisasi
- E. reproduksi

40. Masyarakat Indonesia memiliki karakteristik multikultural, oleh karena itu integrasi sosial sangat penting. Berdasarkan deskripsi tersebut dapat disimpulkan bahwa fungsi lembaga pendidikan yang dapat menjamin adanya integrasi sosial adalah ....

- A. melestarikan kebudayaan
- B. mengembangkan bakat perseorangan
- C. transmisi kebudayaan masyarakat
- D. mengajarkan perbedaan dan kesederajatan
- E. sebagai sumber inovasi sosial

41. Pilpres digelar lima tahun sekali sesuai ketentuan perundangan yang berlaku di Indonesia. Dengan Presiden dipilih langsung oleh rakyat diharapkan akan mampu mengemban amanah dan memerhatikan kesejahteraan rakyat. Tujuan lembaga politik dari ilustrasi tersebut adalah ....

- A. mewujudkan keadilan dan kesejahteraan masyarakat sesuai amanah rakyat
- B. memperhatikan aturan yang berlaku untuk melangsungkan kekuasaan
- C. membuat aturan agar setiap penyelenggaraan pilpres ada peluang untuk menang
- D. mengemban tugas amanah yang diberikan oleh partai pendukungnya
- E. mengatur dan menyelenggarakan pelaksanaan Pemilihan Umum



42. Aktivitas lembaga ekonomi pada sektor agraris merupakan pertanian seperti bersawah, perladangan, perkebunan, perikanan dan peternakan. Sektor agraris pada dasarnya melalui tahap-tahap dari yang sederhana, transisi dan modern sejalan dengan perkembangan ilmu pengetahuan dan teknologi dalam masyarakat. Adapun fungsi lembaga ekonomi pada sektor tersebut adalah memberi pedoman tentang....
- melakukan pertukaran barang/barter
  - harga jual beli barang
  - cara pengupahan
  - cara pemutusan hubungan kerja
  - mendapat bahan pangan
43. Para pengurus Dewan Masjid, Dewan Gereja, dan pemimpin umat beragama lain mengadakan musyawarah lintas agama untuk menemukan solusi terhadap konflik horizontal antarpemeluk agama yang berbeda di suatu daerah. Fungsi lembaga agama pada ilustrasi di atas adalah ....
- mengajarkan peribadatan bagi pemeluknya
  - menegaskan sanksi atas dosa-dosa manusia
  - mencari pihak-pihak yang bersalah dalam konflik
  - menyudahi konflik dengan kekerasan fisik
  - menciptakan hubungan sosial yang harmoni
44. Suatu penelitian yang bertujuan untuk memperoleh informasi tentang gejala yang sama dari berbagai orang atau kelompok. Untuk keperluan tersebut peneliti menggunakan instrumen berupa kuesioner. Menurut metode pengumpulan datanya, jenis penelitian tersebut termasuk penelitian ....
- survei
  - historis
  - eksperimen
  - tindakan
  - kuantitatif
45. Judul penelitian "Pengaruh sanksi hukum yang tidak tegas terhadap maraknya praktik korupsi di provinsi X". Variabel terikat dari judul penelitian tersebut adalah ....
- pengaruh sanksi hukum
  - sanksi hukum tidak tegas
  - di provinsi X banyak koruptor
  - maraknya praktik korupsi
  - integritas penegak hukum yang rendah
46. Setelah kenaikan harga BBM kehidupan nelayan mengalami keterpurukan, kegiatan melaut menjadi berkurang karena tidak mampu membeli BBM. Hasil tangkapan tidak mencukupi untuk menafkahi keluarga. Dari ilustrasi tersebut, jika dilakukan penelitian rumusan masalah yang tepat adalah ...
- Bagaimana dampak kenaikan BBM terhadap kehidupan masyarakat nelayan?
  - Seberapa besar kenaikan harga BBM berpengaruh terhadap hasil tangkapan?
  - Mengapa kehidupan nelayan tergantung pada harga BBM?
  - Bagaimana upaya nelayan mencukupi kebutuhan hidup sehari-hari?
  - Benarkah kehidupan nelayan dipengaruhi tingginya harga kebutuhan pokok?



Sosiologi SMA/MA IPS

47. Seorang peneliti ingin mengetahui prestasi perolehan indeks kumulatif mahasiswa pada sebuah perguruan tinggi negeri di Yogyakarta. Cara mengambil sampel penelitian dari populasi terdiri dari tingkatan tahun yang berbeda dan masing-masing tingkatan menjadi terwakili. Teknik sampling yang digunakan adalah....
- A. *random sampling*
  - B. *purposive sampling*
  - C. *insidental sampling*
  - D. *quota sampling*
  - E. *stratified sampling*
48. Metode observasi partisipasi merupakan salah satu metode pengumpulan data yang dipakai dalam penelitian kualitatif. Kelebihan pengumpulan data melalui observasi partisipasi tersebut adalah ....
- A. diperlukan biaya yang relatif murah dan waktu yang pendek untuk mendapatkan data
  - B. jawaban responden yang diperoleh lebih dapat dipertanggungjawabkan kebenarannya
  - C. responden bersedia mengungkapkan keterangan yang tidak ingin diberikan kepada peneliti
  - D. diperlukan waktu menunggu yang singkat untuk memperoleh hasil yang diharapkan
  - E. dapat memperoleh data dan keterangan dari subyek yang diteliti secara langsung pada saat itu juga

49. Perhatikan tabel berikut!  
Cara lulusan SMA masuk Perguruan Tinggi

No	Jalur Masuk	F	%
1	Mandiri	43	43,88
2	Prestasi	20	20,41
3	Seleksi reguler	35	35,71

Dari tabel tersebut dapat disimpulkan bahwa jalur masuk perguruan tinggi dilakukan secara ....

- A. demokrasi
  - B. profesional
  - C. beragam
  - D. terbuka
  - E. legal
50. Bagian yang terpenting dari laporan penelitian adalah bagian pendahuluan, pada bagian ini terdiri dari judul, kata pengantar, daftar isi, daftar tabel, gambar dan grafik. Kegunaan dari bagian pendahuluan adalah ....
- A. menguraikan proses pelaksanaan penelitian
  - B. memberikan saran terhadap masalah yang diteliti
  - C. menggambarkan garis besar dan sistematika penulisan
  - D. menerangkan tentang subyek, obyek, dan ruang lingkup penelitian
  - E. memberikan gambaran kepada pembaca tentang alur pikiran peneliti