



Nama :	
No Peserta :	106-

1. Perhatikan pernyataan berikut:

- (1) Teori-teori yang dibangun bersifat menyempurnakan teori sebelumnya
- (2) Dalam mengkaji gejala sosial berdasarkan pengamatan secara empiris dan objektif
- (3) Tidak melihat baik buruknya gejala sosial melainkan mengungkap fakta apa adanya
- (4) Memfokuskan diri pada kajian gejala hubungan manusia dengan alam
- (5) Setiap gejala sosial yang diteliti bisa ditarik generalisasi

Yang merupakan ciri-ciri sosiologi adalah ....

- A. (1), (2), dan (3)
  - B. (1), (2), dan (4)
  - C. (1), (3), dan (5)
  - D. (2), (4), dan (5)
  - E. (3), (4), dan (5)
2. Salah satu masalah sosial yang terjadi di masyarakat adalah kemiskinan, yang berakibat pada peningkatan pengangguran dan kriminalitas. Untuk mengatasi permasalahan tersebut perlu dikaji berbagai faktor penyebab terjadinya kemiskinan. Fungsi sosiologi adalah memberikan sumbangan dalam bentuk ...
- A. perencanaan
  - B. jasa konsultan
  - C. ketersediaan data
  - D. kegiatan distribusi
  - E. tenaga kerja produktif
3. Pada saat mengendarai kendaraan bermotor seorang remaja tidak mengenakan helm, jaket, sepatu, dan tidak memiliki SIM karena belum cukup umur. Tindakan remaja tersebut telah melanggar norma ....
- A. sosial
  - B. hukum
  - C. kelayakan
  - D. kesopanan
  - E. kebiasaan
4. Di dalam sebuah kantor terdapat jabatan yang berbeda dan memiliki tugas dan fungsi masing-masing. Satpam menanyakan keperluan setiap orang yang datang. Resepsionis menyapa setiap tamu yang datang. *Cleaning service* membersihkan bagian kantor yang kotor. Kegiatan tersebut dilakukan sesuai peran masing-masing tanpa komando. Kondisi tersebut menggambarkan telah tercipta ....
- A. keajegan
  - B. aturan yang berlaku
  - C. pola
  - D. perilaku
  - E. keteraturan sosial



## Sosiologi SMA/MA IPS

5. Pesan yang dinyatakan melalui media elektronik (televisi dan film) dapat mempengaruhi perilaku masyarakat. Penayangan film dan sinetron yang menonjolkan kekerasan dianggap sebagai faktor yang mendorong perilaku agresif pada anak usia remaja. Pengaruh media sosialisasi tersebut terhadap perkembangan kepribadian adalah ....
- mengarahkan individu untuk berperilaku anti sosial
  - membuat individu bersikap konsumerisme
  - sikap hedonis berkembang pada diri individu
  - individu menjadi kenal dan familiar dengan budaya barat
  - kebiasaan individu mengalami perubahan kondisional
6. Bayi lahir ke dunia sebagai organisme kecil yang penuh dengan kebutuhan fisik dan menyita segenap aktifitas orangtuanya. Ia lahir dalam keadaan tidak mengetahui apa-apa. Dengan sabar orangtua melakukan proses sosialisasi agar nanti anaknya bertingkah laku sesuai dengan standar yang terdapat dalam lingkungan sosial dan kebudayaannya. Contoh di atas menunjukkan bentuk sosialisasi ....
- primer
  - formal
  - represif
  - preventif
  - sekunder
7. Sarah selalu berpenampilan seperti idolanya yaitu Syahrini, apabila bersolek memakai bulu mata anti badai, rambutnya dijambul bahkan gaya bicaranya pun seperti Syahrini. Tindakan yang dilakukan Sarah tersebut didasari oleh faktor ....
- imitasi
  - identifikasi
  - sugesti
  - empati
  - simpati
8. Menjelang Pilkada untuk pemilihan Walikota Semarang partai-partai politik melakukan kerjasama dengan tujuan memenangkan Pilkada. Ditinjau dari bentuk interaksi sosialnya, tujuan kerjasama dalam memenangkan Pilkada termasuk ....
- koalisi
  - joint venture*
  - kooptasi
  - bersaing
  - koersi



9. Perhatikan pernyataan berikut :
- (1) Yusuf sedang menuliskan pengalamannya hari ini di buku hariannya.
  - (2) Tiara berolahraga menggunakan sepeda statis dirumahnya.
  - (3) Hafiyah menjabat tangan Randyka sebagai ucapan simpati atas keberhasilannya.
  - (4) Alvin mengirimkan aplikasi pendaftaran ke universitas di luar negeri melalui email.
  - (5) Hafidz mempresentasikan hasil penelitiannya kepada tim juri lomba penulisan ilmiah.

Pernyataan tersebut yang menunjukkan adanya interaksi sosial adalah ....

- A. (1), (2), dan (3)
  - B. (1), (2), dan (4)
  - C. (1), (3), dan (5)
  - D. (2), (4), dan (5)
  - E. (3), (4), dan (5)
10. Seorang anak, melanjutkan pendidikan tinggi di kota lain sehingga harus kost. Ia jarang pulang ke rumah, sehingga orang tua tidak dapat memberi bimbingan dan mengawasi secara maksimal. Kondisi tersebut menyebabkan ia berperilaku bebas dan cenderung melanggar peraturan. Penyimpangan tersebut disebabkan oleh ....
- A. pembelajaran dari berbagai penyimpangan
  - B. pemberian label atau cap negatif oleh orang tua
  - C. adanya perbedaan penyampaian sosialisasi
  - D. penyerapan nilai dan norma yang tidak maksimal
  - E. pudarnya nilai dan norma sosial yang lama
11. Perhatikan pernyataan berikut:
- (1) Mengambil aliran listrik dari kabel listrik depan rumah
  - (2) Menerobos lampu merah karena tidak ada polisi
  - (3) Seorang pemabuk membuat onar dan meresahkan warga sekitar
  - (4) Mencontek saat ulangan karena semalam tidak belajar
  - (5) Pencopet melakukan perampasan perhiasan di dekat lampu merah

Yang merupakan perilaku menyimpang sekunder ditunjukkan oleh nomor ....

- A. (1), (2), dan (3)
  - B. (1), (2), dan (4)
  - C. (1), (3), dan (5)
  - D. (2), (4), dan (5)
  - E. (3), (4), dan (5)
12. Polisi menertibkan sekelompok pemuda yang melakukan balapan liar, dan mereka dibawa ke kantor polisi untuk direhabilitasi. Dari kasus tersebut dapat disimpulkan bahwa tujuan pengendalian sosial adalah ....
- A. mengubah perilaku individu
  - B. menanamkan rasa malu
  - C. menanamkan nilai dan norma
  - D. mencapai stabilitas sosial
  - E. melindungi pihak tertentu



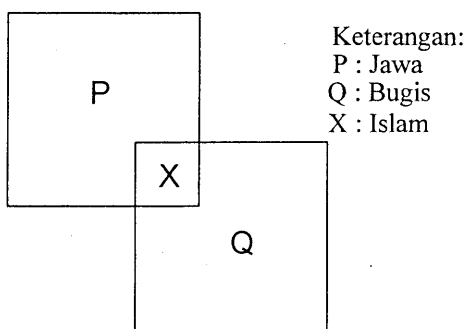
13. Perhatikan gejala sosial berikut!
- (1) Para pengendara sepeda motor yang tidak memakai helm diberi nasihat oleh polisi.
  - (2) Siswa yang terlambat masuk sekolah dihukum berlari oleh guru piket.
  - (3) Siswa yang melakukan perilaku coret dinding sekolah diberikan peringatan oleh guru BK.
  - (4) Badan Narkotika Nasional bekerjasama dengan kepolisian menangkap pelaku pengedar narkoba
  - (5) Warga desa yang terlibat pertengkaran mengenai persoalan anaknya diberikan pengarahan oleh tokoh adat setempat.

Pernyataan tersebut yang merupakan cara pengendalian sosial persuasif adalah....

- A. (1), (2), dan (3)
  - B. (1), (2), dan (4)
  - C. (1), (3), dan (5)
  - D. (2), (4), dan (5)
  - E. (3), (4), dan (5)
14. Di kota besar banyak pedagang kaki lima yang berjualan tidak pada tempatnya. Setiap hari mereka membayar uang kepada seseorang yang bekerjasama dengan oknum kepolisian, agar di izinkan tetap berjualan di lokasi tersebut. Setelah berlangsung lama, pemerintah daerah merasa kesulitan untuk menertibkan para pedagang tersebut.

Berdasarkan deskripsi tersebut, dapat disimpulkan dampak dari kurang berfungsinya lembaga kepolisian sebagai pengendali sosial adalah ....

- A. masyarakat kehilangan mata pencaharian
  - B. bertambahnya peluang bisnis bagi aparat
  - C. tidak tercipta ketertiban sosial di masyarakat
  - D. terjadi kemacetan di sekitar pemukiman penduduk
  - E. kegiatan ekonomi rakyat mendapat perlindungan formal
15. Perhatikan bagan struktur sosial majemuk berikut ini!



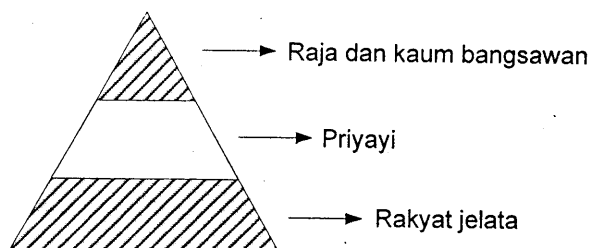
Gambar di atas menunjukkan adanya struktur sosial dalam bentuk ....

- A. interseksi
- B. konsolidasi
- C. asimilasi
- D. akulturasi
- E. kontravensi



16. Struktur sosial horizontal suatu masyarakat di mana kelompok masyarakat memiliki bahasa yang sama, kesenian yang sama dan adat istiadat yang sama. Ikatan sosial pada deskripsi tersebut disebut ....
- A. ras
  - B. klan
  - C. dyad
  - D. klik
  - E. suku bangsa

17. Struktur sosial masyarakat feodal di Jawa:



Dari skema di atas dapat diketahui bahwa sesuatu yang dihargai dan dijadikan dasar stratifikasi sosial adalah ....

- A. keturunan
  - B. kekuasaan
  - C. keahlian
  - D. pendidikan
  - E. kekayaan
18. Pembangunan fasilitas fisik di wilayah perkotaan sangat pesat dan sering disertai dengan penggusuran rumah penduduk. Sebagian penduduk yang diuntungkan cenderung bersikap setuju terhadap penggusuran, sementara kelompok yang dirugikan, menolak penggusuran. Munculnya kelompok pro dan kontra atau konflik pada masyarakat perkotaan tersebut disebabkan oleh faktor ....
- A. proses perubahan yang terlalu cepat
  - B. perbedaan kualitas individu
  - C. tuntutan persaingan yang tinggi
  - D. perbedaan mata pencaharian masyarakat
  - E. perkembangan kebudayaan kelompok
19. Penggunaan *gadget* yang meluas dewasa ini, oleh kalangan tua dianggap sebagai salah satu pendorong kemalasan kalangan muda. Sementara itu, kalangan muda beranggapan *gadget* menunjang produktifitas. Deskripsi di atas menunjukkan adanya konflik ....
- A. antargolongan
  - B. antarkelas
  - C. antargenerasi
  - D. antarangkatan
  - E. antarkelompok



20. Konflik antara warga dengan pemerintah di suatu daerah telah menyebabkan rusaknya kantor kepolisian dan menewaskan aparat. Dari pelaku yang tertangkap dapat ditemukan semua pelaku kriminal yang menyebabkan korban tewas tersebut. Semua tersangka pelaku dihadapkan ke meja hijau.

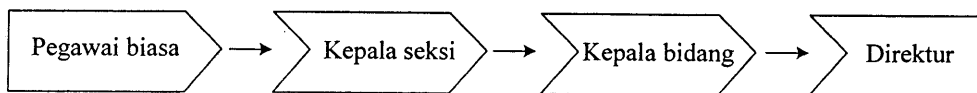
Bentuk akomodasi yang tepat untuk kasus tersebut adalah ....

- A. konsiliasi
  - B. arbitrase
  - C. ajudikasi
  - D. kompromi
  - E. mediasi
21. Beberapa contoh mobilitas sosial
- (1) Masyarakat menganut sistem feodalisme
  - (2) Pandangan tradisional tentang perempuan yang tidak perlu maju.
  - (3) Imigran Afganistan meminta suaka politik ke Australia.
  - (4) Sikap diskriminasi terhadap kelompok minoritas.
  - (5) Anggota masyarakat memiliki hasrat untuk mengubah status sosialnya.

Dari contoh tersebut yang termasuk faktor penghambat mobilitas sosial adalah....

- A. (1), (2), dan (3)
- B. (1), (2), dan (4)
- C. (1), (3), dan (5)
- D. (2), (4), dan (5)
- E. (3), (4), dan (5)

22. Perhatikan bagan berikut!



Mobilitas sosial yang digambarkan bagan di atas tergolong kepada mobilitas sosial bentuk ....

- A. horizontal
  - B. antargenerasi
  - C. intragenerasi
  - D. struktural
  - E. pertukaran
23. Setelah menyelesaikan kuliahnya, Fahri aktif dalam kegiatan organisasi profesi, dan saat ini Fahri menjadi Ketua Ikatan Akuntansi Indonesia. Salurannya dilakukan oleh Fahri untuk melakukan mobilitas sosial adalah ....
- A. pendidikan dan perkawinan
  - B. profesi dan keagamaan
  - C. pendidikan dan profesi
  - D. prestasi dan militer
  - E. keagamaan dan pendidikan



24. Masyarakat menolak kembalinya seorang mantan narapidana ke lingkungan asalnya, karena masyarakat masih menaruh curiga terhadap residivis tersebut. Konsekuensi yang dihadapi mantan narapidana tersebut adalah ....
- terputusnya interaksi dengan lingkungan baru
  - penyesuaian diri terhadap lingkungan baru
  - adanya harapan di lingkungan baru
  - timbulnya kekecewaan di lingkungan baru
  - penurunan status di lingkungan baru
25. Sekelompok orang yang berkumpul di tempat penjual jamu atau menonton konser musik, memiliki fokus perhatian pada objek yang sama. Akan tetapi sesama mereka tidak ada interaksi intensif. Bentuk kelompok sosial tersebut adalah ....
- kelompok proimer
  - kerumunan
  - publik
  - massa
  - kelompok sekunder
26. Perhatikan pernyataan berikut!
- Menjunjung tinggi persamaan di antara perbedaan
  - Bersikap akomodatif terhadap terjadinya keberagaman
  - Dominasi satu kelompok atas kelompok lainnya
  - Memiliki toleransi yang tinggi terhadap keberadaan agama yang berbeda
  - Bersikap eksklusif dalam kehidupan di masyarakat
- Berdasarkan pernyataan tersebut, yang termasuk dalam karakteristik masyarakat multikultural adalah ....
- (1), (2), dan (3)
  - (1), (2), dan (4)
  - (1), (3), dan (5)
  - (2), (4), dan (5)
  - (3), (4), dan (5)
27. Keragaman masyarakat Indonesia ditandai dengan adanya bermacam-macam kelompok yang mempunyai kekuatan yang relatif sama dalam berbagai aspek seperti ekonomi dan politik. Komposisi tersebut menunjukkan konfigurasi masyarakat majemuk ....
- mayoritas dominan
  - minoritas dominan
  - fragmentasi struktural
  - kompetisi seimbang
  - disorganisasi sosial
28. Secara sosiologis keberhasilan pemerintah menangani berbagai pergolakan di daerah yang akan memisahkan diri dari NKRI berdampak positif untuk memperkuat ....
- budaya nasional
  - ekonomi nasional
  - anggaran nasional
  - kepemimpinan nasional
  - integrasi nasional



29. Perhatikan kondisi sosial berikut!
- (1) Isolasi karena bentuk wilayah kepulauan yang dihubungkan oleh laut
  - (2) Pengalaman historis pernah di jajah oleh bangsa Eropa dan Asia
  - (3) Besarnya jumlah penduduk Indonesia mejadi potensi besar
  - (4) Letak geografis di posisi silang dunia sehingga sering menjadi tempat singgah
  - (5) Hubungan dagang yang terjadi dengan berbagai ras di selat Malaka

Latar belakang terbentuknya masyarakat majemuk di Indonesia adalah ....

- A. (1), (2), dan (3)
- B. (1), (2), dan (4)
- C. (1), (3), dan (5)
- D. (2), (4), dan (5)
- E. (3), (4), dan (5)

30. Beberapa perilaku dalam masyarakat!
- (1) Menyukai hasil budaya suku bangsa lain
  - (2) Memilih pemimpin yang berasal dari putra daerah
  - (3) Pernikahan laki-laki dan perempuan yang berbeda etnik
  - (4) Menganggap rendah keberadaan kelompok etnik lain
  - (5) Menghargai solidaritas antara kelompok suku bangsa

Perilaku yang sesuai dalam masyarakat multikultural adalah ....

- A. (1), (2), dan (3)
- B. (1), (2), dan (4)
- C. (1), (3), dan (5)
- D. (2), (4), dan (5)
- E. (3), (4), dan (5)

31. Seorang ahli sosiologi Mac Iver menegaskan, bahwa perubahan sosial adalah perubahan dalam hubungan sosial (*social relationship*) atau perubahan terhadap keseimbangan hubungan sosial. Menurut definisi tersebut, perubahan hubungan sosial merupakan ....
- A. penyebab perubahan sosial
  - B. akibat dari perubahan sosial
  - C. hakikat perubahan sosial
  - D. dampak dari perubahan sosial
  - E. pelaku perubahan sosial

32. Program rehabilitasi kota Bantul di Daerah Istimewa Yogyakarta pasca gempa beberapa tahun lalu disusun sedemikian rupa dengan melibatkan berbagai pihak termasuk pemerintah pusat. Dilihat dari rekayasa yang dilakukan oleh berbagai pihak itu, contoh kasus tersebut mencerminkan bentuk perubahan sosial ....
- A. revolusi
  - B. direncanakan
  - C. evolusi
  - D. besar pengaruhnya
  - E. tidak dikehendaki





33. Warga masyarakat perkotaan cenderung lebih terbuka. Mereka sudah biasa berinteraksi dan bekerja sama dengan orang lain yang berbeda suku, ras, dan agama. Dampak positif dari proses mutual akulturasi tersebut adalah ....
- mempercepat proses modernisasi
  - menghilangkan perbedaan sosial
  - mengurangi sentimen kelompok primordial
  - memudahkan identitas kepribadian individu
  - mendorong homogenitas masyarakat luas
34. Adanya krisis bahan bakar minyak mendorong masyarakat untuk melakukan terobosan baru dengan menciptakan kendaraan bermotor yang hemat BBM, seperti mobil listrik. Faktor penyebab perubahan pada perilaku masyarakat tersebut adalah ....
- kebudayaan asing
  - penemuan baru
  - konflik dalam masyarakat
  - pertumbuhan jumlah penduduk
  - terjadinya pemberontakan
35. Banyak perusahaan modern membeli peralatan baru (meskipun mahal) untuk memperlancar aktivitas produksi maupun distribusi barang. Langkah modernisasi tersebut ditempuh untuk ....
- meningkatkan efisiensi kerja
  - membangun jaringan usaha
  - menemukan sistem kerja baru
  - mengembangkan produksi jasa
  - memperoleh nilai tambah
36. Perubahan sosial yang bergulir di masyarakat tidak semuanya di terima oleh masyarakat terutama oleh individu atau kelompok yang memiliki tradisi yang tertanam kuat dengan kondisi sebelumnya. Ilustrasi tersebut menunjukkan bahwa faktor penghambat perubahan sosial adalah ....
- vested interest*
  - hambatan ideologis
  - pandangan konservatif
  - kebiasaan sukar diubah
  - iptek yang terlambat
37. Perhatikan pernyataan berikut!
- (1) Memiliki simbol untuk menandai keunikan dari setiap lembaga.
  - (2) Memiliki norma yang bersifat tertulis maupun tidak tertulis.
  - (3) Memiliki fungsi yang terbatas
  - (4) Mempunyai tujuan yang jelas dan telah disepakati bersama.
  - (5) Usia lembaga lebih singkat dibanding usia pemakai lembaga.
- Yang tergolong ciri lembaga sosial adalah ....
- (1), (2), dan (3)
  - (1), (2), dan (4)
  - (1), (3), dan (5)
  - (2), (4), dan (5)
  - (3), (4), dan (5)



## Sosiologi SMA/MA IPS

38. Salah satu lembaga sosial adalah *unsanctioned institution* yang merupakan lembaga yang tidak disukai oleh masyarakat. Ciri lembaga tersebut adalah ....
- tumbuh dengan tidak sengaja meskipun masyarakat menolak
  - merupakan sistem norma yang mengatur masyarakat
  - ditolak masyarakat, tetapi masyarakat tidak mampu memberantas
  - sengaja dibentuk oleh masyarakat untuk mengatasi penyimpangan
  - dikenal oleh sebagian kecil masyarakat, sedangkan lainnya menolak
39. Kasih sayang yang tulus tanpa pamrih diberikan orangtua kepada anak-anaknya. Banyak kasus dimana anak melukai hati orang tua dan menciderai nama baik keluarga, tetapi orang tua masih memaafkan anaknya. Ilustrasi tersebut menunjukkan lembaga keluarga berfungsi ....
- proteksi
  - edukasi
  - afeksi
  - sosialisasi
  - reproduksi
40. Orang tuanya meminta untuk bekerja, tetapi Siti lebih mengutamakan sekolah. Berdasarkan deskripsi tersebut maka fungsi laten pendidikan adalah ....
- mengurangi pengendalian orang tua
  - memperpanjang masa remaja
  - mempertahankan kelas
  - sarana pengubah pola pikir
  - sarana pembangunan
41. Pilpres digelar lima tahun sekali sesuai ketentuan perundangan yang berlaku di Indonesia. Dengan Presiden dipilih langsung oleh rakyat diharapkan akan mampu mengemban amanah dan memerhatikan kesejahteraan rakyat. Tujuan lembaga politik dari ilustrasi tersebut adalah ....
- mewujudkan keadilan dan kesejahteraan masyarakat sesuai amanah rakyat
  - memperhatikan aturan yang berlaku untuk melangsungkan kekuasaan
  - membuat aturan agar setiap penyelenggaraan pilpres ada peluang untuk menang
  - mengemban tugas amanah yang diberikan oleh partai pendukungnya
  - mengatur dan menyelenggarakan pelaksanaan Pemilihan Umum
42. Aktivitas lembaga ekonomi pada sektor agraris merupakan pertanian seperti bersawah, perladangan, perkebunan, perikanan dan peternakan. Sektor agraris pada dasarnya melalui tahap-tahap dari yang sederhana, transisi dan modern sejalan dengan perkembangan ilmu pengetahuan dan teknologi dalam masyarakat. Adapun fungsi lembaga ekonomi pada sektor tersebut adalah memberi pedoman tentang....
- melakukan pertukaran barang/barter
  - harga jual beli barang
  - cara pengupahan
  - cara pemutusan hubungan kerja
  - mendapat bahan pangan



43. Para pengurus Dewan Masjid, Dewan Gereja, dan pemimpin umat beragama lain mengadakan musyawarah lintas agama untuk menemukan solusi terhadap konflik horizontal antarpemeluk agama yang berbeda di suatu daerah. Fungsi lembaga agama pada ilustrasi di atas adalah ....
- mengajarkan peribadatan bagi pemeluknya
  - menegaskan sanksi atas dosa-dosa manusia
  - mencari pihak-pihak yang bersalah dalam konflik
  - menyudahi konflik dengan kekerasan fisik
  - menciptakan hubungan sosial yang harmoni
44. Suatu penelitian yang bertujuan untuk menemukan gejala umum dari populasi yang berjumlah banyak dengan menggunakan instrumen kuesioner termasuk jenis penelitian ....
- historik
  - survey
  - eksperimen
  - inquiri alamiah
  - eksploratif
45. Judul penelitian: "Dampak kesenjangan penghasilan suami istri terhadap disorganisasi sosial dalam keluarga". Variabel bebas dari penelitian tersebut adalah ....
- kesenjangan penghasilan suami istri
  - penghasilan suami istri dan disorganisasi
  - disorganisasi sosial dalam keluarga
  - disorganisasi dalam keluarga karena kesenjangan
  - suami istri bekerja dan disorganisasi
46. SMA "X" mendapat perhatian dari berbagai pihak karena ulah oknum siswanya yang sering melakukan kenakalan. Hal ini mengundang perhatian seorang peneliti untuk melakukan kajian ilmiah guna membantu menemukan solusi tepat mengatasinya. Rumusan masalah penelitian yang tepat dari ilustrasi tersebut adalah ...
- Apakah yang menyebabkan kenakalan siswa SMA "X"?
  - Bagaimana tanggapan masyarakat terhadap SMA "X"?
  - Apa saja bentuk-bentuk kenakalan siswa di SMA "X"?
  - Bagaimana tanggapan masyarakat terhadap pelanggaran di SMA "X"?
  - Bagaimana mengatasi kenakalan siswa di SMA "X"?
47. Seorang peneliti melakukan penelitian di salah satu SMA. Peneliti tersebut memfokuskan pada apakah ada perbedaan tingkat kedisiplinan di antara semua siswa. Sampel yang dipilih adalah siswa Kelas X, XI, dan XII agar representatif. Dilihat dari teknik pengambilan sampelnya, maka penelitian tersebut menggunakan teknik sampel ....
- random
  - proporsi
  - bertujuan
  - bertingkat
  - kuota



48. Metode observasi partisipasi merupakan salah satu metode pengumpulan data yang dipakai dalam penelitian kualitatif. Kelebihan pengumpulan data melalui observasi partisipasi tersebut adalah ....
- diperlukan biaya yang relatif murah dan waktu yang pendek untuk mendapatkan data
  - jawaban responden yang diperoleh lebih dapat dipertanggungjawabkan kebenarannya
  - responden bersedia mengungkapkan keterangan yang tidak ingin diberikan kepada peneliti
  - diperlukan waktu menunggu yang singkat untuk memperoleh hasil yang diharapkan
  - dapat memperoleh data dan keterangan dari subyek yang diteliti secara langsung pada saat itu juga

49. Perhatikan tabel berikut!  
Cara lulusan SMA masuk Perguruan Tinggi

No	Jalur Masuk	F	%
1	Mandiri	43	43,88
2	Prestasi	20	20,41
3	Seleksi reguler	35	35,71

Dari tabel tersebut dapat disimpulkan bahwa jalur masuk perguruan tinggi dilakukan secara ....

- demokrasi
  - profesional
  - beragam
  - terbuka
  - legal
50. Bagian penutup suatu laporan penelitian antara lain berisi daftar pustaka. Guna daftar pustaka bagi pembaca adalah ....
- untuk mengetahui permasalahan yang dialami responden
  - untuk mencari solusi atas masalah yang dihadapi masyarakat
  - memberitahukan kepada masyarakat tentang referensi yang digunakan
  - sebagai salah satu prosedur pembuatan rancangan penelitian
  - menjadi indikator berhasil tidaknya suatu kegiatan penelitian