



Nama :	
No Peserta :	- 110 -

1. Perhatikan beberapa pernyataan berikut!

- (1) Teori sosiologi merupakan penyempurnaan dari teori yang sudah ada.
- (2) Didasarkan pada observasi terhadap realitas sosial yang tidak spekulatif.
- (3) Mengandalkan pada telaah subyektif untuk menganalisa realitas sosial.
- (4) Hasil pengamatan disusun secara logis dalam bentuk abstraksi.
- (5) Memprediksi realitas sosial yang akan terjadi di masyarakat.

Yang merupakan ciri sosiologi ditunjukkan oleh nomor

- A. (1), (2), dan (3)
 - B. (1), (2), dan (4)
 - C. (1), (3), dan (5)
 - D. (2), (4), dan (5)
 - E. (3), (4), dan (5)
2. Seorang sosiolog melakukan penelitian tentang kehidupan warga di suatu kompleks perumahan di mana mereka bisa hidup berdampingan dengan solidaritas sosial tinggi, saling menghargai dan menghormati. Dari contoh tersebut sosiologi berfungsi sebagai ilmu yang
- A. menanamkan kesadaran dan pemahaman
 - B. mengkaji hubungan masyarakat
 - C. mengembangkan sikap toleransi
 - D. mengembangkan sikap saling menghormati
 - E. mengkaji hubungan manusia dengan alam
3. Sekelompok siswa SMA menyebrang jalan di *zebra cross*, sementara itu pengendara sepeda motor melaju dengan tertib dan memakai helm sesuai peraturan lalu lintas yang berlaku.
Contoh tersebut merupakan pelaksanaan norma
- A. agama
 - B. hukum
 - C. kesusilaan
 - D. kebudayaan
 - E. kesopanan
4. Setiap siswa masuk ke sekolah dengan memakai seragam lengkap dengan atributnya, membawa alat/media belajar setiap hari sesuai aturan yang berlaku. Tindakan yang berdasarkan norma ini dilakukan secara terus menerus.
Unsur keteraturan tersebut adalah
- A. pola
 - B. keajegan
 - C. order
 - D. tertib
 - E. formal



Sosiologi SMA/MA IPS

5. Media massa merupakan salah satu agen sosialisasi yang memiliki peran penting dalam proses pembangunan, karena pembangunan harus dapat dinikmati oleh setiap lapisan masyarakat. Peran media massa sebagai agen sosialisasi sekunder dalam pembangunan untuk persatuan dan kesatuan masyarakat Indonesia adalah
- menayangkan hasil pembangunan
 - memberikan pendidikan pada masyarakat
 - mendorong proses integrasi
 - menyajikan informasi dan hiburan
 - mengkomunikasikan hasil pembangunan
6. Seorang anak mulai mengenal anggota keluarga yang lain dalam lingkungan keluarganya. Secara bertahap ia mulai mampu membedakan dirinya dengan anggota keluarga yang lain dan orang-orang di sekitar keluarganya. Berdasarkan contoh di atas, anak tersebut mengalami bentuk sosialisasi
- primer
 - sekunder
 - tesiar
 - kuarter
 - formal
7. Seorang pengagum berat artis terkenal, mengikuti model rambut, model pakaian atau gaya perilakunya, bahkan menganggap dirinya sama dengan artis idolanya. Perilaku tersebut merupakan contoh interaksi sosial yang didasari oleh faktor
- imitasi
 - empati
 - simpati
 - sugesti
 - identifikasi
8. Menjelang Pilkada untuk pemilihan Walikota Semarang partai-partai politik melakukan kerjasama dengan tujuan memenangkan Pilkada. Ditinjau dari bentuk interaksi sosialnya, tujuan kerjasama dalam memenangkan Pilkada termasuk
- koalisi
 - joint venture*
 - kooptasi
 - bersaing
 - koersi
9. Perhatikan pernyataan berikut :
- Turis asing bertanya kepada penduduk setempat dengan bahasa yang tidak dimengerti.
 - Seseorang mengajak bicara temannya yang sedang tidur mengigau.
 - Tamu restoran memanggil pelayan di restoran.
 - Seorang turis memesan kamar pada resepsionis hotel.
 - Pelayan menanyakan kepada tamu apa yang ingin dipesannya.
- Yang merupakan interaksi sosial ditunjukkan oleh nomor
- (1), (2), dan (3)
 - (1), (2), dan (4)
 - (1), (3), dan (5)
 - (2), (4), dan (5)
 - (3), (4), dan (5)



10. Budi anak yang baik dan penurut, tetapi setelah ia lulus SMA, Budi tidak melanjutkan ke perguruan tinggi dan bergaul dengan teman sebaya yang mengkonsumsi narkotika dan obat terlarang, sehingga Budi menjadi pecandu narkoba.

Dari kasus tersebut perilaku menyimpang disebabkan faktor

- A. keinginan untuk dipuji
- B. pelampiasan rasa kecewa
- C. dorongan kebutuhan ekonomi
- D. sosialisasi sub budaya menyimpang
- E. sosialisasi primer tidak sempurna

11. Perhatikan contoh penyimpangan sosial berikut ini!

- (1) Membolos sekolah karena mengantuk berat.
- (2) Mengendarai motor di jalan raya sepi dengan kecepatan tinggi.
- (3) Mabuk bersama teman-teman tak mengenal tempat.
- (4) Kelompok terorganisir menyelundupkan bayi.
- (5) Memberi uang suap pada oknum petugas yang korup.

Yang termasuk contoh perilaku menyimpang sekunder adalah

- A. (1), (2), dan (3)
- B. (1), (2), dan (4)
- C. (1), (3), dan (5)
- D. (2), (4), dan (5)
- E. (3), (4), dan (5)

12. Pejalan kaki tidak menyebrang di jembatan penyebrangan. Polisi menegur agar ia menggunakan jembatan penyeberangan yang telah disediakan. Tujuan pengendalian sosial berdasarkan kasus tersebut adalah

- A. kesejahteraan sosial
- B. ketertiban masyarakat
- C. sosial *equilibrium*
- D. keamanan nasional
- E. kepahaman masyarakat

13. Perhatikan gejala sosial berikut!

- (1) Pelaku pencurian dan pembunuhan dihukum penjara
- (2) Anak yang pulang ke rumah terlambat dihukum mencuci piring
- (3) Perintah hukuman tembak mati bagi provokator di daerah konflik
- (4) Sebelum musim hujan Pemprov DKI Jakarta melakukan pengerukan sungai dan waduk
- (5) Masyarakat modern berolah raga teratur dan makan makanan sehat agar tidak sakit

Berdasarkan gejala sosial tersebut yang termasuk pengendalian sosial represif adalah

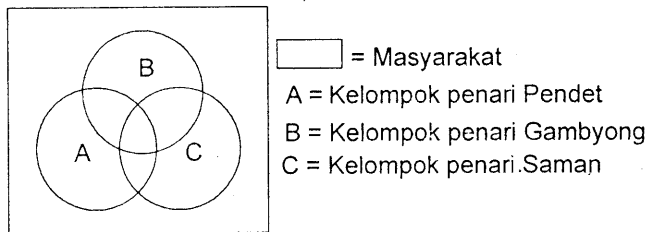
- A. (1), (2), dan (3)
- B. (1), (2), dan (4)
- C. (1), (3), dan (5)
- D. (2), (4), dan (5)
- E. (3), (4), dan (5)



Sosiologi SMA/MA IPS

14. Korupsi di Indonesia berkembang secara sistemik. Bagi sebagian orang, korupsi tidak lagi merupakan suatu pelanggaran hukum melainkan sudah sebagai suatu kebiasaan. Dalam sebuah penelitian perbandingan korupsi antarnegara, Indonesia selalu menempati posisi paling korup. Kasus ini menunjukkan lemahnya sistem pengendalian sosial negara pada lembaga hukum yaitu
- A. pendidikan, kepolisian dan kejaksaan
 - B. pendidikan, kepolisian dan kehakiman
 - C. pendidikan, keamanan dan kepolisian
 - D. kepolisian, kejaksaan dan kehakiman
 - E. keagamaan, kepolisian dan kehakiman

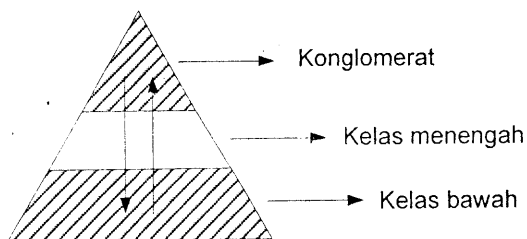
15. Perhatikan ilustrasi berikut!



Gambar tersebut menunjukkan interaksi struktur sosial berdasarkan pada unsur

- A. asal usul
 - B. profesi
 - C. sosial
 - D. ekonomi
 - E. budaya
16. Di dalam masyarakat dijumpai kelompok sosial yang memiliki nama belakang Sitompul, Napitupulu, Sirait dan sebagainya. Kelompok sosial tersebut dibentuk atas dasar
- A. profesi
 - B. hubungan darah
 - C. hoby yang sama
 - D. kesamaan budaya
 - E. asal daerah

17. Perhatikan gambar pelapisan sosial berikut!



Dasar pelapisan sosial pada gambar tersebut adalah

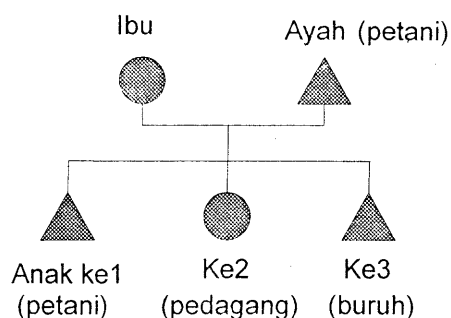
- A. keturunan
- B. materi
- C. kekuasaan
- D. kekayaan
- E. mata pencaharian



18. Pembangunan fasilitas fisik di wilayah perkotaan sangat pesat dan sering disertai dengan pengrusakan rumah penduduk. Sebagian penduduk yang diuntungkan cenderung bersikap setuju terhadap pengrusakan, sementara kelompok yang dirugikan, menolak pengrusakan. Munculnya kelompok pro dan kontra atau konflik pada masyarakat perkotaan tersebut disebabkan oleh faktor
- proses perubahan yang terlalu cepat
 - perbedaan kualitas individu
 - tuntutan persaingan yang tinggi
 - perbedaan mata pencaharian masyarakat
 - perkembangan kebudayaan kelompok
19. Konflik yang terjadi antara pihak buruh dan pengusaha yang menyangkut penetapan upah minimum provinsi dimana buruh merasa berhak atas upah yang layak, sementara para pengusaha lebih berkonsentrasi kepada keuntungan. Dampak negatif dari konflik tersebut adalah
- perubahan kepribadian dua kelompok yang berbeda
 - tercapainya konsensus baru antara buruh dan pengusaha
 - perkembangan keuntungan perusahaan yang sulit
 - rusaknya aset perusahaan dan turunnya produktivitas buruh
 - ketidakseimbangan sosial antara buruh dan pengusaha
20. Pak Muslim mempertemukan dan menjadi penengah kedua kemenakannya yang sedang berselisih sejak sebulan terakhir terkait dengan batas tanah peninggalan orangtua mereka. Bentuk akomodasi yang diperankan Pak Muslim tergolong kepada
- mediasi
 - koersi
 - konsolidasi
 - arbitrasi
 - ajudikasi
21. Beberapa contoh mobilitas:
- Usaha yang gigih membuat Hary memiliki kerajaan bisnis
 - Siti tidak melanjutkan sekolah karena dirinya seorang perempuan
 - Kondisi politik yang tidak menentu, membuat imigran Iran mencari suaka ke Australia
 - Suku Aborigin menjadi warga negara kelas dua di Australia, setelah kulit putih
 - Kemajuan kota Jakarta mengundang banyak orang melakukan urbanisasi ke Jakarta
- Faktor pendorong untuk melakukan mobilitas sosial ditunjukkan pada nomor
- (1), (2), dan (3)
 - (1), (2), dan (4)
 - (1), (3), dan (5)
 - (2), (4), dan (5)
 - (3), (4), dan (5)



22. Bagan mobilitas sosial



Dari bagan di atas dapat disimpulkan bahwa

- A. dua generasi tersebut mengalami mobilitas horizontal antargenerasi
 - B. anak dan orang tua mengalami mobilitas sosial vertikal naik
 - C. status sosial anak ke-3 lebih tinggi dari status sosial orang tuanya
 - D. antara orang tua dan anak-anaknya terjadi mobilitas sosial
 - E. mobilitas sosial terjadi pada anak ke-1 dan ke-2 saja
23. Seseorang tamatan Sekolah Menengah Atas yang mempunyai kemampuan fisik dan kesehatan yang baik berhasil lulus masuk Akademi Militer Angkatan Darat. Ketika pangkatnya kolonel, ia terpilih menjadi komandan pasukan perdamaian Tentara Indonesia di Timur Tengah karena situasi politik di wilayah itu sedang panas. Saluran mobilitas yang digunakan adalah
- A. lembaga hukum
 - B. organisasi politik
 - C. angkatan bersenjata
 - D. organisasi ekonomi
 - E. saluran perkawinan
24. Sesuai peraturan perundangan, jabatan anggota DPR dibatasi periodenya yaitu lima tahun. Itu berarti, bahwa terdapat peluang lima tahun terjadi sirkulasi sosial dalam bentuk pergantian anggota lembaga legislatif. Bagi kemajuan masyarakat, mobilitas vertikal dalam lembaga tersebut berdampak positif karena mendorong individu untuk
- A. berkompetisi meningkatkan kelas sosial
 - B. bersaing mendapatkan anggaran negara
 - C. bergabung dengan organisasi politik
 - D. bekerja untuk masyarakat banyak
 - E. belajar tentang manajemen negara
25. Kelompok sosial terbentuk oleh hubungan batin yang murni dan bersifat alamiah dan kekal. Dasar hubungan tersebut adalah rasa cinta dan rasa kesatuan batin yang dikodratkan dan ada ikatan darah atau garis keturunan. Contoh kelompok sosial di atas adalah
- A. paguyuban
 - B. patembayan
 - C. kekeluargaan
 - D. senasib sepenanggungan
 - E. kesamaan minat



26. Beberapa ciri kehidupan sosial:

- (1) Bersikap inklusif terhadap semua kelompok yang berbeda.
- (2) Integrasi sosial tumbuh atas kesadaran bersama.
- (3) Mudah melakukan kerjasama di antara kelompok berbeda.
- (4) Sering terjadi konflik sosial antarkelompok berbeda.
- (5) Dominasi satu kelompok atas kelompok lain.

Karakteristik masyarakat multikultural ditunjukkan oleh nomor

- A. (1), (2), dan (3)
- B. (1), (2), dan (4)
- C. (1), (3), dan (5)
- D. (2), (4), dan (5)
- E. (3), (4), dan (5)

27. Masyarakat multikultural di Indonesia ditandai oleh keberagaman dalam agama. Jumlah terbesar pemeluk agama (umat beragama) di Indonesia adalah masyarakat Islam. Sesama umat beragama menjalin hubungan sosial yang harmonis. Komposisi tersebut menunjukkan konfigurasi masyarakat multikultural yaitu

- A. fragmental sosial
- B. minoritas dominan
- C. mayoritas seimbang
- D. mayoritas dominan
- E. kompetisi seimbang

28. Secara sosiologis keberhasilan pemerintah menangani berbagai pergolakan di daerah yang akan memisahkan diri dari NKRI berdampak positif untuk memperkuat

- A. budaya nasional
- B. ekonomi nasional
- C. anggaran nasional
- D. kepemimpinan nasional
- E. integrasi nasional

29. Perhatikan sejumlah fakta empiris berikut!

- (1) Sebagian penduduk Indonesia hidup dengan kualitas yang masih rendah.
- (2) Teknologi komunikasi dan transportasi belum merata di seluruh Indonesia.
- (3) Hasil kekayaan alam Indonesia dapat di ekspor ke berbagai belahan dunia.
- (4) Ribuan pulau di negara Indonesia terbentang dari Sabang hingga Merauke.
- (5) Hambatan dalam interaksi sosial antarpulau karena bentuk negara kepulauan.

Fakta yang terkait dengan penyebab kemajemukan budaya adalah

- A. (1), (2), dan (3)
- B. (1), (2), dan (4)
- C. (1), (3), dan (5)
- D. (2), (4), dan (5)
- E. (3), (4), dan (5)



30. Perhatikan pernyataan berikut:

- (1) Meskipun Andreas orang Manado, tetapi ia sangat menyukai seni wayang
- (2) Ketika mendengar gamelan Jawa, Bindar Siregar menggerutu karena membuat kantuk
- (3) Pak Hamid Lubis menyukai pakaian dengan bahan batik
- (4) Hartati selalu mengagungkan tari-tarian dari daerahnya
- (5) Tari tor-tor, tidak atraktif, dan monoton, kata seseorang dari suku Bali

Tindakan sosial yang tidak sesuai dengan realitas masyarakat multikultural adalah

- A. (1), (2), dan (3)
 - B. (1), (2), dan (4)
 - C. (1), (3), dan (5)
 - D. (2), (4), dan (5)
 - E. (3), (4), dan (5)
31. Perubahan sosial menurut JP. Gillin dan JL. Gillin merupakan suatu variasi dari cara hidup yang telah diterima karena perubahan kondisi geografis, kebudayaan materiil, komposisi penduduk, ideologi maupun difusi budaya. Makna dari perubahan sosial sesuai dengan deskripsi tersebut adalah
- A. tujuan perubahan
 - B. arah perubahan
 - C. sebab perubahan
 - D. dinamika perubahan
 - E. faktor perubahan
32. Pemerintah melakukan perubahan terhadap kurikulum KTSP menjadi kurikulum 2013 dengan tujuan agar pendidikan di Indonesia semakin baik. Bentuk perubahan tersebut adalah
- A. revolusi
 - B. evolusi
 - C. *regres*
 - D. inovasi
 - E. *planned*
33. Warga masyarakat perkotaan cenderung lebih terbuka. Mereka sudah biasa berinteraksi dan bekerja sama dengan orang lain yang berbeda suku, ras, dan agama. Dampak positif dari proses mutual akulturasi tersebut adalah
- A. mempercepat proses modernisasi
 - B. menghilangkan perbedaan sosial
 - C. mengurangi sentimen kelompok primordial
 - D. memudarkan identitas kepribadian individu
 - E. mendorong homogenitas masyarakat luas



34. Hasil pemilihan umum legislatif maupun eksekutif kini bisa diketahui oleh masyarakat luas dalam tempo singkat sebelum KPU mengumumkan hasil secara resmi. Hadirnya lembaga survei yang memiliki jaringan di berbagai wilayah yang dilengkapi dengan alat komunikasi canggih bisa melakukan teknik hitung cepat/*quick count* yang hasilnya relatif akurat. Perubahan sosial tersebut disebabkan oleh
- faktor demografi
 - pergeseran nilai norma
 - penyesuaian akan kebutuhan
 - inovasi di bidang teknologi informasi
 - penemuan di bidang ilmu dan teknologi
35. Pemerintah yang baik adalah pemerintah yang dapat mensejahterakan rakyatnya dengan cara peningkatan di segala segi kehidupan melalui proses modernisasi. Hal itu sesuai dengan manfaat modernisasi yaitu mendapatkan
- teknologi baru
 - informasi populer
 - keteraturan masyarakat
 - kehidupan yang nyaman
 - wawasan pengetahuan umum
36. Pembangunan dan pelebaran jalan raya negara tidak dapat diselesaikan tepat waktu karena adanya kelompok masyarakat yang tidak mau menjual lahan yang terkena proyek. Mereka beralasan, bahwa tanah warisan leluhur harus dipertahankan apa adanya dan tidak boleh dijual. Sikap penolakan masyarakat tersebut disebabkan adanya
- kepentingan ekonomi
 - konflik horizontal
 - faktor tradisional
 - unsur primordial
 - ajaran agama
37. Perhatikan pernyataan berikut:
- (1) Memiliki tradisi dan tata tertib
 - (2) Memerlukan alat perlengkapan untuk beraktifitas
 - (3) Memiliki simbol dan bersifat super organik
 - (4) Terdiri dari sejumlah lapisan sosial yang teratur
 - (5) Perilaku yang disesuaikan dengan kedudukan sosial
- Yang menjadi ciri lembaga sosial adalah
- (1), (2), dan (3)
 - (1), (2), dan (4)
 - (1), (3), dan (5)
 - (2), (4), dan (5)
 - (3), (4), dan (5)



38. Perhatikan pernyataan berikut!

- (1) Sindikat kejahatan
- (2) Kelompok pertemanan
- (3) Lembaga sekolah
- (4) Perusahaan dagang
- (5) Lembaga agama

Pernyataan di atas yang merupakan *approved* dan *sanctioned institution* yaitu

- A. (1), (2), dan (3)
- B. (1), (2), dan (4)
- C. (1), (3), dan (5)
- D. (2), (4), dan (5)
- E. (3), (4), dan (5)

39. Melalui perkawinan, seseorang akan mendapatkan status atau kedudukan yang baru di masyarakat, yaitu sebagai suami atau istri. Secara otomatis, ia akan diperlakukan sebagai orang yang telah dewasa dan mampu bertanggungjawab kepada diri, keluarga, anak-anak, dan masyarakatnya.

Berdasarkan ilustrasi di atas, maka fungsi keluarga yang diharapkan adalah fungsi....

- A. reproduksi
- B. afeksi
- C. pemberian status
- D. sosialisasi
- E. proteksi

40. Pada masa globalisasi dan modernisasi tingkat persaingan dalam segala hal begitu ketat, oleh karena itu diperlukan lembaga pendidikan yang mampu mencetak lulusan yang berkualitas agar cepat diserap oleh dunia kerja. Fungsi manifes lembaga tersebut adalah

- A. mengembangkan bakat individu
- B. mempersiapkan individu untuk mencari nafkah
- C. menanamkan keterampilan untuk menghadapi modernisasi
- D. mendukung modernisasi dan globalisasi
- E. memilih dan mengajarkan peranan sosial

41. Pilpres digelar lima tahun sekali sesuai ketentuan perundangan yang berlaku di Indonesia. Dengan Presiden dipilih langsung oleh rakyat diharapkan akan mampu mengemban amanah dan memerhatikan kesejahteraan rakyat. Tujuan lembaga politik dari ilustrasi tersebut adalah

- A. mewujudkan keadilan dan kesejahteraan masyarakat sesuai amanah rakyat
- B. memperhatikan aturan yang berlaku untuk melangsungkan kekuasaan
- C. membuat aturan agar setiap penyelenggaraan pilpres ada peluang untuk menang
- D. mengemban tugas amanah yang diberikan oleh partai pendukungnya
- E. mengatur dan menyelenggarakan pelaksanaan Pemilihan Umum



42. Sektor industri ditandai dengan kegiatan produksi barang. Sektor ini membutuhkan lembaga ekonomi yang semakin kompleks bagaikan rangkaian bagian-bagian yang saling berhubungan dan saling bergantung dalam sistem sehingga tatanan ekonomi berkembang, seperti cara rekrutmen atau pengambilan karyawan, efektivitas dan efisiensi kerja, serta pengelolaannya. Berdasarkan uraian di atas, maka fungsi lembaga ekonomi yang dimaksudkan adalah sebagai
- A. cara dalam melakukan transaksi ekonomi
 - B. pedoman untuk mendapatkan tenaga kerja
 - C. identitas diri bagi masyarakat
 - D. alat untuk bertransaksi bisnis
 - E. mengatur tata cara bercocok tanam
43. Dalam suatu ceramah agama, seorang ustadz menekankan pentingnya mendidik anak secara baik. Anak merupakan karunia dari Allah yang dianugerahkan kepada orang tua untuk dibesarkan, diasuh, dididik, agar kelak menjadi generasi yang baik. Peran ustadz tersebut ditujukan untuk semua kalangan. Peran ustadz sebagai bagian dari aktifitas sosial adalah
- A. memberi petunjuk kepada manusia baik yang hidup maupun mati
 - B. mendorong terciptanya hidup yang harmonis, damai dan bahagia
 - C. mengajarkan kepada keluarga-keluarga untuk bisa hidup sejahtera
 - D. mengajarkan tata cara ritual peribadatan sesuai agamanya
 - E. menjaga masyarakat dari ancaman kejahatan
44. Sebuah penelitian memfokuskan masalah penelitiannya pada satu variabel dengan kajian yang mendalam dan teknik pengumpulan data yang digunakan adalah wawancara. Jenis penelitian tersebut adalah
- A. eksperimen
 - B. kuantitatif
 - C. eksploratif
 - D. deskriptif
 - E. eksplanatif
45. Judul penelitian: "Pengaruh Narkoba Terhadap Tingkat Perkembangan Prestasi Belajar". Variabel bebas dan terikatnya adalah ...
- A. Tingkat Perkembangan prestasi belajar siswa dan narkoba.
 - B. Narkoba dan prestasi belajar.
 - C. Tingkat perkembangan prestasi belajar dan narkoba.
 - D. Pengaruh narkoba dan tingkat perkembangan prestasi belajar.
 - E. Narkoba dan tingkat perkembangan prestasi siswa



46. Suatu kondisi objek penelitian sebagai berikut:
Di suatu kelurahan, Pak lurah melakukan sosialisasi program pemerintah untuk wajib belajar 12 tahun. Para orang tua yang mempunyai tingkat pendidikan tinggi menyambut baik program wajib belajar 12 tahun ini, tapi tidak sedikit dari mereka yang kurang berpendidikan tidak merespon dengan baik.

Dari ilustrasi tersebut rumusan masalah yang cocok adalah ...

- A. Apakah ada hubungan antara tingkat pendidikan orang tua dengan kesadaran terhadap program wajib belajar 12 tahun?
 - B. Apakah ada pengaruh antara tingkat pendidikan orang tua dengan wajib belajar 12 tahun?
 - C. Bagaimana pengaruh antara tingkat pendidikan orang tua dengan kesadaran terhadap program wajib belajar 12 tahun?
 - D. Bagaimanakah dampak tingkat pendidikan orang tua dengan wajib belajar 12 tahun?
 - E. Benarkah ada hubungan antara pendidikan orang tua dengan wajib belajar 12 tahun?
47. Seorang peneliti akan melakukan penelitian di salah satu SMA tertentu, yang akan diteliti adalah kedisiplinan siswa kelas X, XI, dan XII di sekolah tersebut, maka teknik pengambilan sampel yang dilakukan adalah
- A. bertingkat (*stratified sample*)
 - B. wilayah (*probability sample*)
 - C. propinsi (*proporsional sample*)
 - D. kelompok (*cruster sample*)
 - E. acak (*random sample*)
48. Angket atau kuesioner adalah sebuah cara atau instrumen yang digunakan seorang peneliti untuk mengumpulkan data dengan menyebarkan sejumlah lembar pertanyaan-pertanyaan yang harus dijawab oleh responden.

Kelebihan dari instrumen pengumpulan data tersebut adalah

- A. memerlukan kehadiran sang peneliti
- B. dapat menjangkau responden dalam jumlah banyak
- C. dapat menyampaikan semua pertanyaan dengan baik dan tepat
- D. dapat menciptakan hubungan baik dengan responden
- E. dapat mengembangkan pertanyaan yang telah dirumuskan



49. Perhatikan tabel jenis pekerjaan orang tua peserta didik berikut!

Pekerjaan	f	%
Karyawan	10	25,0
Pengusaha	3	7,5
Guru Negeri	10	25,0
Petani	12	30,0
ABRI	3	7,5
Polisi	2	5,0
Total	40	100

Makna data pada tabel tersebut adalah

- A. semua orang tua bekerja di kantor
 - B. profesi guru lebih bergengsi dibanding petani
 - C. polisi tetap disegani sebagai penjaga ketertiban
 - D. penghasilan karyawan lebih tinggi dibanding polisi
 - E. jumlah terbesar orang tua berprofesi sebagai petani
50. Salah satu bagian inti laporan penelitian adalah sajian data hasil penelitian. Guna sajian data tersebut bagi peneliti adalah
- A. membantu peneliti dalam membuat simpulan penelitian
 - B. membuat tabel data dari laporan agar mudah dibaca
 - C. menyembunyikan atau membuang data yang tidak penting
 - D. memunculkan data yang sesuai dengan kehendak peneliti
 - E. sebagai informasi kepada publik atas hasil penelitiannya