



Nama :	
No Peserta :	115

1. Perhatikan pernyataan berikut:
- (1) Teori-teori yang dibangun bersifat menyempurnakan teori sebelumnya
 - (2) Dalam mengkaji gejala sosial berdasarkan pengamatan secara empiris dan objektif ✓
 - (3) Tidak melihat baik buruknya gejala sosial melainkan mengungkap fakta apa adanya ✓
 - (4) Memfokuskan diri pada kajian gejala hubungan manusia dengan alam
 - (5) Setiap gejala sosial yang diteliti bisa ditarik generalisasi

Yang merupakan ciri-ciri sosiologi adalah

- A. (1), (2), dan (3)
 - B. (1), (2), dan (4)
 - C. (1), (3), dan (5)
 - D. (2), (4), dan (5)
 - E. (3), (4), dan (5)
2. Sosiologi dapat memberikan sumbangan pemahaman atas realitas sosial yang diperlukan pada tahap perencanaan, pelaksanaan, maupun penilaian pembangunan suatu proyek di desa tertinggal. Hal ini merupakan salah satu
- A. realitas sosial
 - B. peran sosiologi
 - C. masalah sosial
 - D. kegunaan sosiologi
 - E. tujuan sosiologi
3. Sekelompok siswa SMA menyebrang jalan di *zebra cross*, sementara itu pengendara sepeda motor melaju dengan tertib dan memakai helm sesuai peraturan lalu lintas yang berlaku. Contoh tersebut merupakan pelaksanaan norma
- A. agama
 - B. hukum
 - C. kesusilaan
 - D. kebudayaan
 - E. kesopanan
4. Setiap hari Senin semua sekolah melaksanakan upacara bendera, seluruh siswanya memakai pakaian seragam yang rapi begitu pula bapak dan ibu gurunya. Hal ini menunjukkan salah satu unsur pembentuk keteraturan sosial yaitu
- A. tertib sosial
 - B. sosial order
 - C. keajegan
 - D. struktur sosial
 - E. pola



5. Sejak menjadi ketua karang taruna di tempat tinggalnya. Andri lebih peka terhadap permasalahan sosial yang terjadi di sekitarnya. Ia selalu mengelola gagasan untuk mengatasi permasalahan sosial tersebut dengan jelas dan terperinci. Fungsi agen sosialisasi kelompok persahabatan bagi Andri adalah
- mencari kawan sebagai pelengkap kebutuhan adanya persahabatan
 - menambah pengalaman berorganisasi secara individual dan kelompok
 - mencari pemimpin karang taruna melalui pemilihan yang jujur dan adil
 - membuat suasana pertemuan kelompok menjadi bersemangat
 - membentuk kepribadian yang tanggap terhadap masalah di sekitar
6. Suatu keluarga modern memberikan keleluasaan kepada anak-anaknya untuk memilih jalan hidupnya. Orang tua membiasakan berdialog dengan anak-anaknya agar bisa memahami jalan pikiran mereka. Orang tua selalu berpesan agar apapun keputusan yang diambil oleh anak, harus dipertanggungjawabkan. Dilihat dari arah penyampaian pesan, pola sosialisasi pada contoh tersebut termasuk
- partisipatoris
 - otoritatif
 - primer
 - informal
 - sekunder
7. Suku, agama, ras, dan antar golongan (SARA) lekat sekali dengan pandangan sikap yang dianut masyarakat. Pertikaian antarwarga sering disebabkan oleh kasus SARA yang berawal dari hal sederhana. Umumnya terjadi ketika warga lain memberi pandangan, lalu diterima oleh si penerima yang kondisinya tidak netral, dan menerima pandangan tersebut tanpa berpikir rasional.
- Faktor yang memengaruhi terjadinya interaksi sosial tersebut adalah
- simpati
 - identifikasi
 - motivasi
 - imitasi
 - sugesti
8. Menjelang Pilkada untuk pemilihan Walikota Semarang partai-partai politik melakukan kerjasama dengan tujuan memenangkan Pilkada. Ditinjau dari bentuk interaksi sosialnya, tujuan kerjasama dalam memenangkan Pilkada termasuk
- koalisi
 - joint venture*
 - kooptasi
 - bersaing
 - koersi



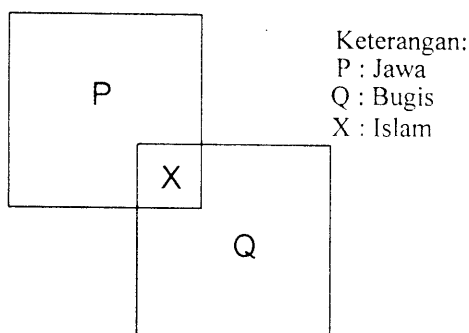
9. Perhatikan pernyataan berikut!
- (1) Seorang remaja merenung dan menyesali kesalahannya kepada kedua orang tuanya.
 - (2) Ibu berpesan kepada anaknya untuk menjaga rumah saat ibu ke pasar.
 - (3) Seorang pengendara sepeda menggerutu karena ban sepedanya kempes tertusuk paku.
 - (4) Ketika mendapat perintah ibu untuk menjaga rumah seorang anak memahami tugasnya.
 - (5) Seorang pelayan restoran melakukan konfirmasi terhadap pesanan tamunya.
- Tindakan yang merupakan contoh kontak dan komunikasi terjadinya interaksi sosial adalah
- A. (1), (2), dan (3)
 - B. (1), (2), dan (4)
 - C. (1), (3), dan (5)
 - D. (2), (4), dan (5)
 - E. (3), (4), dan (5)
10. Budi anak yang baik dan penurut, tetapi setelah ia lulus SMA, Budi tidak melanjutkan ke perguruan tinggi dan bergaul dengan teman sebaya yang mengkonsumsi narkoba dan obat terlarang, sehingga Budi menjadi pecandu narkoba.
Dari kasus tersebut perilaku menyimpang disebabkan faktor
- A. keinginan untuk dipuji
 - B. pelampiasan rasa kecewa
 - C. dorongan kebutuhan ekonomi
 - D. sosialisasi sub budaya menyimpang
 - E. sosialisasi primer tidak sempurna
11. Contoh perilaku menyimpang:
- (1) Jessica dan Feny gemar memakai seragam sekolah yang ketat.
 - (2) Sekelompok remaja ditangkap polisi karena menghisap ganja.
 - (3) Bobi gemar bermain game *online* sehingga lupa belajar.
 - (4) Pejabat negara penerima suap ditangkap oleh KPK.
 - (5) Penyedia jasa prostisusi bagi pria hidung belang diamankan oleh polisi.
- Yang merupakan penyimpangan sekunder adalah
- A. (1), (2), dan (3)
 - B. (1), (2), dan (4)
 - C. (1), (3), dan (5)
 - D. (2), (4), dan (5)
 - E. (3), (4), dan (5)
12. Pada saat ulangan seorang siswa ketahuan mencontek. Ia ditegur dan disuruh oleh guru untuk mengerjakan ulangan sendirian dengan diawasi oleh beberapa guru.
Pengendalian yang dilakukan oleh guru tersebut bertujuan untuk
- A. memunculkan rasa takut terhadap guru
 - B. mengembangkan rasa malu pada diri siswa
 - C. menciptakan suasana menakutkan pada siswa
 - D. mempertebal keyakinan guru terhadap peraturan sekolah
 - E. memberikan hadiah kepada siswa yang melanggar aturan



13. Beberapa pengendalian sosial:
- (1) Ibu menasehati anaknya dalam memilih teman
 - (2) BNN memberikan penyuluhan narkoba
 - (3) Pamong praja menghancurkan bangunan liar
 - (4) Polisi menangkap pencuri sepeda motor
 - (5) Densus 88 menembak mati pelaku teror

Pengendalian sosial yang bersifat koersif adalah

- A. (1), (2), dan (3)
 - B. (1), (2), dan (4)
 - C. (1), (3), dan (5)
 - D. (2), (4), dan (5)
 - E. (3), (4), dan (5)
14. Di setiap pemerintah daerah terdapat satuan pengamanan yang sering disebut Satuan Polisi Pamong Praja yang diberi tugas menjaga keamanan dan ketertiban di wilayahnya. Apabila lembaga tersebut tidak berfungsi secara baik, maka akan mengakibatkan
- A. sistem hukum tidak dapat ditegakan
 - B. masyarakat yang taat norma semakin berkurang
 - C. hilangnya rasa takut terhadap aparat pemerintah
 - D. kepercayaan masyarakat terhadap aparat berkurang
 - E. munculnya sindikat kejahatan di berbagai bidang
15. Perhatikan bagan struktur sosial majemuk berikut ini!

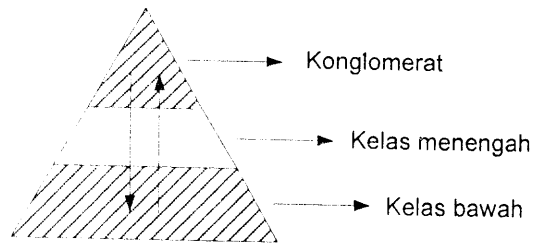


Gambar di atas menunjukkan adanya struktur sosial dalam bentuk

- A. interseksi
 - B. konsolidasi
 - C. asimilasi
 - D. akulturasi
 - E. kontravensi
16. Mahasiswa Universitas Lampung yang berasal dari Bandung sering berkumpul mengadakan acara bakti sosial. Dasar pembentuk kelompok sosial tersebut adalah
- A. suku bangsa
 - B. ras
 - C. profesi
 - D. agama
 - E. jenis kelamin



17. Perhatikan gambar pelapisan sosial berikut!



Dasar pelapisan sosial pada gambar tersebut adalah

- A. keturunan
 - B. materi
 - C. kekuasaan
 - D. kekayaan
 - E. mata pencaharian
18. Pembangunan fasilitas fisik di wilayah perkotaan sangat pesat dan sering disertai dengan penggusuran rumah penduduk. Sebagian penduduk yang diuntungkan cenderung bersikap setuju terhadap penggusuran, sementara kelompok yang dirugikan, menolak penggusuran. Munculnya kelompok pro dan kontra atau konflik pada masyarakat perkotaan tersebut disebabkan oleh faktor
- A. proses perubahan yang terlalu cepat
 - B. perbedaan kualitas individu
 - C. tuntutan persaingan yang tinggi
 - D. perbedaan mata pencaharian masyarakat
 - E. perkembangan kebudayaan kelompok
19. Cinta dan Dina merupakan siswa SMA yang menjalin persahabatan sejak kecil. Karena situasi dan kondisi tertentu, keduanya terlibat dalam konflik yang membuat mereka saling bermusuhan. Dampak negatif konflik dari deskripsi tersebut adalah
- A. hubungan dalam kelompok yang terputus
 - B. berubahnya kepribadian individu
 - C. dominasi satu kelompok atas lainnya
 - D. banyak muncul keinginan pribadi
 - E. komunikasi yang terhambat
20. Seorang pengusaha melakukan penipuan berkedok mencari nasabah melalui multilevel marketing (MLM) dengan menawarkan keuntungan bunga begitu besar. Setelah 6 bulan perusahaan itu tutup, para nasabah mengadukan permasalahan ini kepada pihak berwajib dan menempuh jalur hukum. Bentuk penyelesaian konflik di atas adalah
- A. kompromi
 - B. ajudikasi
 - C. arbitrase
 - D. stalemate
 - E. mediasi



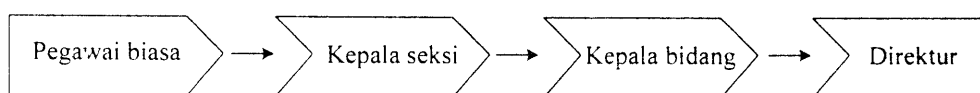
21. Contoh mobilitas sosial:

- (1) Ekonomi keluarga tidak mendukung, menyebabkan seorang anak cerdas yang seharusnya bisa melanjutkan kuliah, namun hanya memilih untuk bekerja membantu orang tua
- (2) Lokasi terpencil membuat warga masyarakat tidak bisa mengenal kemajuan daerah lain sehingga warga di desanya tetap tertinggal
- (3) Di suatu daerah, anak wanita tidak diizinkan sekolah tinggi karena cukup menjadi ibu rumah tangga saja
- (4) Anak-anak dari keluarga tertentu tidak boleh merantau jauh, bagi mereka lebih baik kumpul meskipun hidup serba kurang
- (5) Penduduk di suku tradisional tertentu dilarang sekolah sebab mereka menganggap pendidikan hanya menjadi penyebab perilaku korup

Mobilitas sosial yang terhambat karena faktor budaya adalah

- A. (1), (2), dan (3)
- B. (1), (2), dan (4)
- C. (1), (3), dan (5)
- D. (2), (4), dan (5)
- E. (3), (4), dan (5)

22. Perhatikan bagan berikut!



Mobilitas sosial yang digambarkan bagan di atas tergolong kepada mobilitas sosial bentuk

- A. horizontal
- B. antargenerasi
- C. intragenerasi
- D. struktural
- E. pertukaran

23. Bahar, seorang sarjana teknik yang berprofesi sebagai pedagang, aktif di salah satu partai politik. Oleh partainya dia dicalonkan dan terpilih menjadi anggota legislatif.

Saluran mobilitas sosial yang digunakan pada contoh tersebut adalah organisasi

- A. ekonomi
- B. politik
- C. pendidikan
- D. profesi
- E. pedagang

24. Sesuai peraturan perundangan, jabatan anggota DPR dibatasi periodenya yaitu lima tahun. Itu berarti, bahwa terdapat peluang lima tahun terjadi sirkulasi sosial dalam bentuk pergantian anggota lembaga legislatif. Bagi kemajuan masyarakat, mobilitas vertikal dalam lembaga tersebut berdampak positif karena mendorong individu untuk

- A. berkompetisi meningkatkan kelas sosial
- B. bersaing mendapatkan anggaran negara
- C. bergabung dengan organisasi politik
- D. bekerja untuk masyarakat banyak
- E. belajar tentang manajemen negara



25. Kelompok sosial dapat diklasifikasikan atas kelompok primer dan kelompok sekunder. Klasifikasi tersebut dilakukan atas dasar
- kepentingannya
 - struktur organisasinya
 - sifat hubungannya
 - tujuan kelompoknya
 - derajat interaksi dan tujuannya
26. Beberapa ciri kehidupan sosial:
- Memiliki struktur sosial yang tidak saling melengkapi ✓
 - Kurang mengembangkan konsensus terhadap nilai dasar
 - Setiap kelompok berbeda memiliki kesadaran bersama
 - Tidak terdapat stigma sosial antarkelompok ✓
 - Mudah melakukan kooperasi antarkelompok berbeda ✓
- Karakteristik masyarakat multikultural ditunjukkan oleh
- (1), (2), dan (3)
 - (1), (2), dan (4)
 - (1), (3), dan (5)
 - (2), (4), dan (5)
 - (3), (4), dan (5)
27. Masyarakat nelayan di daerah pantai Jakarta terdiri dari kelompok suku Sunda, Jawa, Bugis, dan Madura. Meskipun mereka besar jumlahnya, namun dalam aktivitas ekonomi dikendalikan oleh kelompok kecil bermodal kuat. Struktur sosial tersebut membentuk konfigurasi
- mayoritas dominan
 - minoritas dominan
 - dominasi struktural
 - kompetisi seimbang
 - fragmentasi seimbang
28. Secara sosiologis keberhasilan pemerintah menangani berbagai pergolakan di daerah yang akan memisahkan diri dari NKRI berdampak positif untuk memperkuat
- budaya nasional
 - ekonomi nasional
 - anggaran nasional
 - kepemimpinan nasional
 - integrasi nasional



29. Perhatikan kondisi sosial berikut!
- (1) Isolasi karena bentuk wilayah kepulauan yang dihubungkan oleh laut
 - (2) Pengalaman historis pernah di jajah oleh bangsa Eropa dan Asia
 - (3) Banyaknya jumlah penduduk Indonesia mejadi potensi besar
 - (4) Letak geografis di posisi silang dunia sehingga sering menjadi tempat singgah
 - (5) Hubungan dagang yang terjadi dengan berbagai ras di selat Malaka

Latar belakang terbentuknya masyarakat majemuk di Indonesia adalah

- A. (1), (2), dan (3)
 - B. (1), (2), dan (4)
 - C. (1), (3), dan (5)
 - D. (2), (4), dan (5)
 - E. (3), (4), dan (5)
30. Beberapa perilaku sosial di masyarakat!
- (1) Melayani semua warga yang membutuhkan bantuan kesehatan secara gratis.
 - (2) Menjaga ketenteraman seluruh warga dalam mengamalkan ajaran agamanya.
 - (3) Memajukan kesejahteraan anggota perkumpulan asal daerah yang masih aktif.
 - (4) Memiliki pemimpin berdasarkan profesionalitas, bukan atas dasar primordial.
 - (5) Menyekolahkan anak di lembaga pendidikan yang sesuai dengan agama yang dianut.

Perilaku inklusif yang sejalan dengan kehidupan masyarakat multikultural adalah

- A. (1), (2), dan (3)
 - B. (1), (2), dan (4)
 - C. (1), (3), dan (5)
 - D. (2), (4), dan (5)
 - E. (3), (4), dan (5)
31. Perubahan sosial menurut JP. Gillin dan JL. Gillin merupakan suatu variasi dari cara hidup yang telah diterima karena perubahan kondisi geografis, kebudayaan materiil, komposisi penduduk, ideologi maupun difusi budaya. Makna dari perubahan sosial sesuai dengan deskripsi tersebut adalah
- A. tujuan perubahan
 - B. arah perubahan
 - C. sebab perubahan
 - D. dinamika perubahan
 - E. faktor perubahan
32. Keberadaan Banjir Kanal Timur (BKT) membawa dampak positif bagi masyarakat sekitar dan meningkatkan pendapatan masyarakat sekitarnya melalui usaha jasa dan perdagangan. Ditinjau dari bentuknya, maka perubahan sosial tersebut termasuk
- A. besar
 - B. cepat
 - C. progres
 - D. evolusi
 - E. dikehendaki



33. Warga masyarakat perkotaan cenderung lebih terbuka. Mereka sudah biasa berinteraksi dan bekerja sama dengan orang lain yang berbeda suku, ras, dan agama. Dampak positif dari proses mutual akulturasi tersebut adalah
- memperecepat proses modernisasi
 - menghilangkan perbedaan sosial
 - mengurangi sentimen kelompok primordial
 - memudarkan identitas kepribadian individu
 - mendorong homogenitas masyarakat luas
34. Sejak usia SMA Doni dikenal sebagai pribadi yang baik dan aktif dalam kegiatan kemasyarakatan. Namun semenjak menjadi pengangguran dan bergaul sebagai anak jalanan, ia sering berurusan dengan hukum. Perubahan perilaku tersebut disebabkan oleh faktor
- pendidikan yang sudah rendah
 - pengaruh sub budaya menyimpang
 - sosialisasi tidak sempurna
 - lingkungan fisik
 - budaya masyarakat setempat
35. Perkembangan teknologi pertanian yang awalnya menggunakan tenaga hewan berkembang ke arah yang lebih maju dengan teknologi traktor. Modernisasi pertanian tersebut bertujuan untuk
- meningkatkan hasil produksi pertanian masyarakat
 - mengurangi resiko sakit terhadap hewan peliharaannya
 - meningkatkan efektifitas dan efisiensi dalam pekerjaan
 - mempermudah dalam menyelesaikan pekerjaan
 - mengurangi biaya produksi dalam pengelolaan pertanian
36. Perubahan sosial yang bergulir di masyarakat tidak semuanya di terima oleh masyarakat terutama oleh individu atau kelompok yang memiliki tradisi yang tertanam kuat dengan kondisi sebelumnya. Ilustrasi tersebut menunjukkan bahwa faktor penghambat perubahan sosial adalah
- vested interest*
 - hambatan ideologis
 - pandangan konservatif
 - kebiasaan sukar diubah
 - iptek yang terlambat
37. Perhatikan pernyataan berikut!
- Menggunakan alat perlengkapan untuk mencapai tujuan.
 - Mempunyai tradisi tertulis maupun tidak tertulis
 - Menjalankan fungsi untuk mengatur aktivitas masyarakat.
 - Berusia lebih singkat dibanding usia suatu generasi.
 - Menimbulkan rasa takut yang berlebihan pada anggota masyarakat.
- Yang merupakan ciri lembaga sosial adalah
- (1), (2), dan (3)
 - (1), (2), dan (4)
 - (1), (3), dan (5)
 - (2), (4), dan (5)
 - (3), (4), dan (5)



38. Perhatikan pernyataan berikut!

- (1) Sindikat kejahatan
- (2) Kelompok pertemanan
- (3) Lembaga sekolah
- (4) Perusahaan dagang
- (5) Lembaga agama

Pernyataan di atas yang merupakan *approved* dan *sanctioned institution* yaitu

- A. (1), (2), dan (3)
- B. (1), (2), dan (4)
- C. (1), (3), dan (5)
- D. (2), (4), dan (5)
- E. (3), (4), dan (5)

39. Keluarga Bapak Gede termasuk keluarga kecil, karena hanya terdiri dari seorang bapak, ibu dan anak. Pada saat ini anaknya baru menginjak usia remaja, maka bapak dan ibunya selalu memberikan perhatian kepada anaknya dengan jalan mengajak berekreasi ke tempat-tempat yang indah, sehingga dapat menciptakan keakraban dalam keluarga.

Dari ilustrasi tersebut, maka fungsi lembaga keluarga tersebut adalah

- A. berperan sebagai pengawasan/kontrol sosial
- B. berperan sebagai pemenuhan ekonomi anak
- C. berperan dalam memberi rasa kehangatan dan kasih sayang
- D. memberikan perlindungan terhadap gangguan pihak luar
- E. pemberian status anak dalam proses perkawinan

40. Setiap sekolah memiliki kegiatan ekstrakurikuler dan setiap siswa diwajibkan untuk memilih salah satu ekstrakurikuler yang diminatinya. Hal ini dilakukan agar siswa memperoleh pengalaman, yang bisa dijadikan sebagai media untuk mengembangkan diri. Fungsi pendidikan berdasarkan deskripsi tersebut adalah

- A. melestarikan kebudayaan
- B. memandang setiap siswa sama
- C. mengembangkan bakat siswa
- D. mencegah tawuran pelajar
- E. memperpanjang usia remaja

41. Pilpres digelar lima tahun sekali sesuai ketentuan perundangan yang berlaku di Indonesia. Dengan Presiden dipilih langsung oleh rakyat diharapkan akan mampu mengemban amanah dan memerhatikan kesejahteraan rakyat. Tujuan lembaga politik dari ilustrasi tersebut adalah

- A. mewujudkan keadilan dan kesejahteraan masyarakat sesuai amanah rakyat
- B. memperhatikan aturan yang berlaku untuk melangsungkan kekuasaan
- C. membuat aturan agar setiap penyelenggaraan pilpres ada peluang untuk menang
- D. mengemban tugas amanah yang diberikan oleh partai pendukungnya
- E. mengatur dan menyelenggarakan pelaksanaan Pemilihan Umum

42. Sektor agraris meliputi kegiatan pertanian, seperti sawah, perlaianyaa, pemukiman, dan peternakan. Aktifitas pertanian dalam menyediakan bahan pangan diatur sedemikian rupa agar tidak mengalami gagal panen.

Uraian tersebut menggambarkan kegiatan ekonomi sebagai pelaksanaan dari sistem ekonomi yang bertujuan untuk

- A. mengatur produksi, distribusi, dan konsumsi
 - B. memenuhi kebutuhan ketersediaan pangan
 - C. menjaga stabilitas keamanan dalam negeri
 - D. mengatur hubungan perdagangan internasional
 - E. menjamin terjadinya pemerataan pembangunan
43. Para pengurus Dewan Masjid, Dewan Gereja, dan pemuka umat beragama lain mengadakan musyawarah lintas agama untuk menemukan solusi terhadap konflik horizontal antarpemeluk agama yang berbeda di suatu daerah. Fungsi lembaga agama pada ilustrasi di atas adalah
- A. mengajarkan peribadatan bagi pemeluknya
 - B. menegaskan sanksi atas dosa-dosa pemeluk
 - C. mencari pihak-pihak yang berselisih dalam konflik
 - D. menyudahi konflik dengan kekerasan fisik
 - E. menciptakan hubungan sosial antar pemeluk
44. Suatu penelitian mengkaji "Pengaruh Kurikulum terhadap Prestasi Belajar". Data yang dilakukan adalah dengan melakukan uji coba terhadap dua kelompok. Kelompok pertama peserta didik diberi pelajaran berdasarkan kurikulum lama, kelompok kedua diberi pelajaran berdasarkan kurikulum baru. Setelah satu semester diadakan tes hasil belajar untuk melihat perbedaan prestasi hasil belajar kedua kelompok peserta didik tersebut.

Penelitian sosial tersebut berdasarkan metodologi ilmiah pada penelitian

- A. historik
 - B. survei
 - C. eksperimen
 - D. inquiri alamiah
 - E. eksploratif
45. Judul penelitian: "Pengaruh Narkoba Terhadap Tingkat Perkembangan Prestasi Belajar". Variabel bebas dan terikatnya adalah ...
- A. Tingkat Perkembangan prestasi belajar siswa dan narkoba
 - B. Narkoba dan prestasi belajar
 - C. Tingkat perkembangan prestasi belajar dan narkoba
 - D. Pengaruh narkoba dan tingkat perkembangan prestasi belajar
 - E. Narkoba dan tingkat perkembangan prestasi siswa



46. "Korelasi antara siswa ikut di lembaga bimbingan belajar dengan penerimaan mahasiswa baru di universitas melalui ujian tulis". Dari judul penelitian tersebut rumusan masalahnya adalah
- Apakah ada pengaruh antara siswa ikut di lembaga bimbingan belajar dengan penerimaan mahasiswa baru di universitas melalui ujian tulis?
 - Apakah hubungan antara siswa ikut di lembaga bimbingan belajar dengan penerimaan mahasiswa baru di universitas melalui ujian tulis?
 - Bagaimana korelasi antara siswa ikut di lembaga bimbingan belajar dengan penerimaan mahasiswa baru di universitas melalui ujian tulis?
 - Ada perbedaan antara siswa ikut di lembaga bimbingan belajar dengan penerimaan mahasiswa baru di universitas melalui tes tulis.
 - Ada korelasi antara siswa ikut di lembaga bimbingan belajar dengan penerimaan mahasiswa baru di universitas melalui ujian.
47. Dalam melakukan penelitian terhadap kepuasan pengguna jasa penyeberangan di Pelabuhan Merak, peneliti mewawancarai supir truk yang kebetulan ditemui saat sedang antre berhari-hari menunggu giliran. Cara pengambilan sampel penelitian tersebut dikenal dengan
- random sampling*
 - purposive sampling*
 - insidental sampling*
 - quota sampling*
 - cluster sampling*
48. Pedoman wawancara yang dibuat oleh seorang peneliti merupakan salah satu bentuk instrumen penelitian yang sering digunakan untuk memperoleh data yang berkualitas. Adapun kelebihan dari instrumen tersebut antara lain
- informan bebas memberikan pendapat dari pertanyaan yang diajukan
 - responden dapat memberikan jawaban sesuai dengan daftar pertanyaan
 - responden dapat saling mempengaruhi secara pribadi dengan peneliti
 - dapat diketahui tingkat pemahaman pihak yang diwawancarai
 - instrumen dapat digunakan dalam waktu singkat
49. Perhatikan tabel frekuensi pergi ke Mal dan nilai rata-rata sosiologi disuatu SMA kelas XII

Kategori	f	Nilai rata-rata sosiologi
Sangat sering	22	6,1
Sering	19	7,0
Cukup sering	7	8,2
Jarang	2	9,0
Jumlah	50	

Dari tabel di atas peserta didik yang mempunyai nilai kurang baik adalah peserta didik yang

- jarang ke Mal
- cukup sering ke Mal
- sering ke Mal
- sangat sering ke Mal
- tidak pernah ke Mal

DOKUMEN NEGARA

SANGAT RAHASIA

50. Bagian penutup suatu laporan penelitian yang terdapat pada bagian belakang buku atau pustaka bagi pembaca adalah ...
- A. untuk mengetahui permasalahan yang dihadapi
 - B. untuk mencari solusi atas masalah yang dihadapi
 - C. memberitahukan kepada masyarakat tentang hasil penelitian
 - D. sebagai salah satu prosedur penelitian yang harus dilakukan
 - E. menjadi indikator keberhasilan dalam menyelesaikan penelitian